

SELECCIÓN ÚNICA

70 ÍTEMS

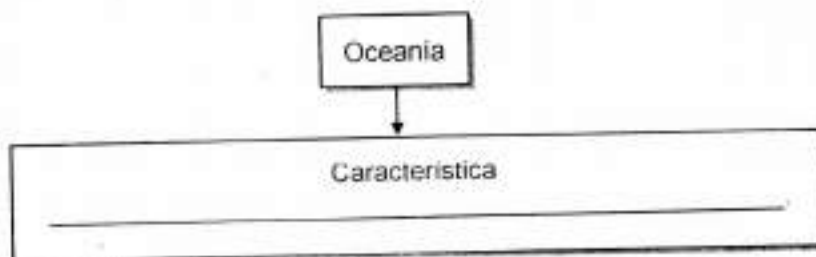
1) Lea los siguientes elementos:

1. Sus características naturales permiten el desarrollo de distintos tipos de paisajes.
2. Los seres humanos utilizan los recursos naturales para su desarrollo social.
3. Se establecen relaciones entre las ciudades y el medio ambiente que se encuentra en su entorno.
4. Las plantas necesitan la energía externa que proviene del Sol para llevar a cabo su proceso de fotosíntesis.

¿Cuáles números de los anteriores identifican dos elementos de la Tierra como un sistema cultural?

- A) 1 y 2
- B) 1 y 4
- C) 2 y 3
- D) 3 y 4

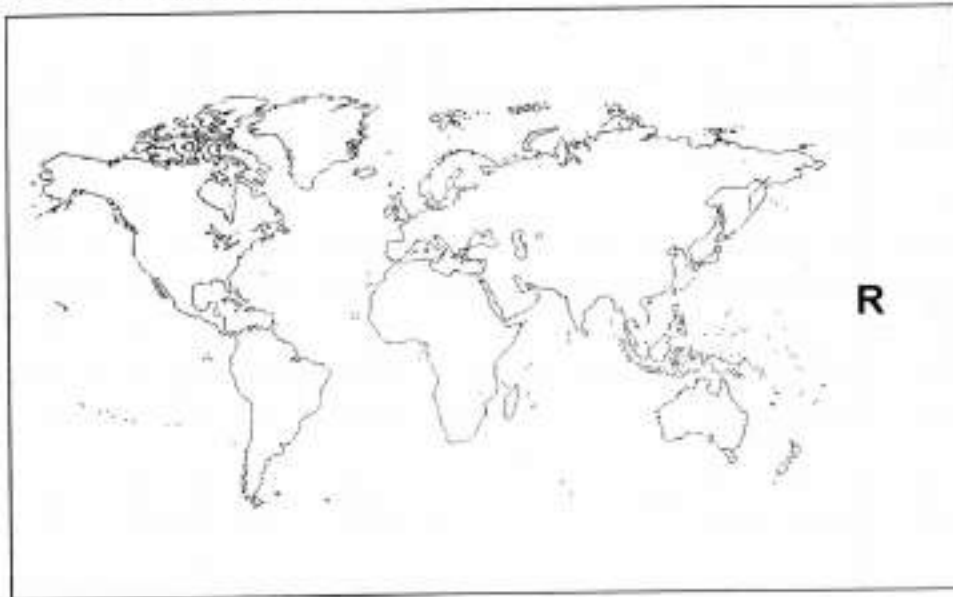
2) Lea el siguiente esquema:



¿Cuál opción completa correctamente el esquema anterior?

- A) Es la extensión de tierra emergida más grande del planeta
- B) Es el continente más pequeño, formado por Australia y un conjunto de islas
- C) Se ubican grandes sistemas montañosos como por ejemplo la cordillera del Himalaya
- D) Gran parte de su territorio está cubierto por zonas áridas e inhóspitas, por ejemplo, el desierto del Sahara

- 3) Observe el siguiente croquis:



¿Cuál es el nombre de la masa oceánica identificada con la letra R, en el croquis anterior?

- A) Ártico
 - B) Índico
 - C) Pacífico
 - D) Atlántico
- 4) Lea el siguiente texto:

Está recorrida por uno de los ríos más largos del mundo, nace en el lago Victoria y desemboca en el mar Mediterráneo. En sus orillas existen populosas ciudades y una gran actividad agrícola de trigo y algodón entre otros. Además, se desarrolla el turismo y la producción de energía hidroeléctrica.

Adaptado de Bolaños, Gamboa, Vásquez. Estudios Sociales X

El texto anterior hace referencia al valle del río

- A) Nilo.
- B) Congo.
- C) Ganges.
- D) Yang Tse Kiang.

5) Observe el siguiente croquis:



¿Cuál es el nombre del paisaje geográfico de América que aparece sombreado en el croquis anterior?

- A) Montes Apalaches
- B) Llanura del Misisipi
- C) Cordillera de las Rocosas
- D) Escudo Canádico o Laurentino

6) Lea las siguientes características:

- Su nombre en árabe significa «terreno inculto».
- El dromedario es el animal más útil de este desierto.
- Se encuentra entre la cordillera del Atlas y Sudán, las costas del Atlántico y el mar Rojo.

Las características anteriores corresponden al desierto denominado

- A) Namibia.
- B) Kalahari.
- C) Sahara.
- D) Gobi.

7) ¿Cuál es la primera zona pesquera del mundo que incluye países como Suecia, Noruega e Islandia entre otros, en donde se capturan algunas especies como bacalao, mejillones y calamares?

- A) Pacífico Norte
- B) Atlántico Norte
- C) Pacífico de América del Sur
- D) Atlántico de América del Sur

8) Lea las siguientes características:

- Los tuaregs fueron conocidos como piratas por acechar y saquear caravanas.
- Los bosquimanos obtienen la mayor parte de agua de raíces de plantas y de melones tsama.

Las características anteriores identifican a pueblos que habitan en paisajes geográficos de tipo

- A) ártico.
- B) alpino.
- C) costero.
- D) desértico.

9) Lea el siguiente esquema:



¿Cuál opción completa correctamente el esquema anterior?

- A) Búsqueda de materias primas
- B) Rivalidades por la carrera espacial
- C) Implementación del sistema socialista en Europa
- D) Deseo por consolidar el proceso de globalización

10) Lea los siguientes aspectos:

- | |
|--|
| 1. Participación de la mujer que demandaba mejores condiciones laborales e igualdad de derechos. |
| 2. Estados Unidos de América se consolidó como la primera potencia a nivel mundial. |
| 3. Fundación de la Sociedad de Naciones para preservar la paz y la cooperación del orbe. |
| 4. Desintegración del imperio Austro-húngaro, generando aparición de nuevos países independientes. |

¿Cuál número de los anteriores identifica una consecuencia social de la Primera Guerra Mundial 1914-1919?

- A) 1
- B) 2
- C) 3
- D) 4

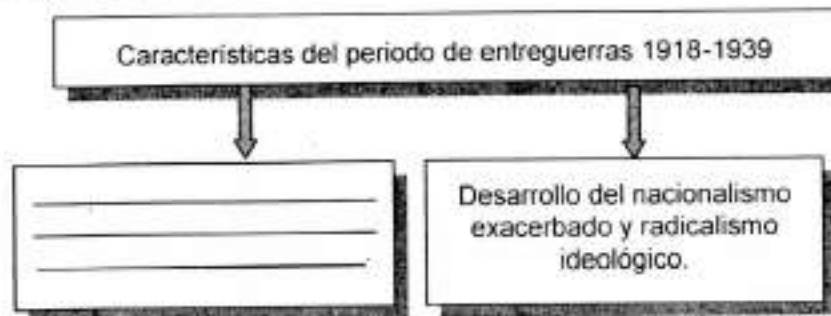
11) Lea el siguiente texto:

La invasión a Polonia en 1939 fue una acción militar de la Alemania nazi encaminada a apoderarse del territorio, conocida técnicamente como «Operación Fall Weiss», se inició el 1° de septiembre de 1939 desencadenando así la _____.

¿Cuál opción completa correctamente el texto anterior?

- A) revolución Bolchevique
- B) Primera Guerra Mundial
- C) Segunda Guerra Mundial
- D) desintegración de la Unión de Repúblicas Socialistas Soviéticas


12) Lea el siguiente esquema:



¿Cuál opción completa correctamente el esquema anterior?

- A) Desarrollo de la Guerra fría
- B) Surgimiento de los totalitarismos
- C) Consolidación de la Federación de Rusia
- D) División de la Alemania en dos bloques: Oriental y Occidental


13) Lea el siguiente esquema:



¿Cuál opción completa correctamente el esquema anterior?

- A) Promovió la intervención del Estado en lo económico
- B) Creó la Organización Mundial del Comercio
- C) Eliminó el desempleo a nivel mundial
- D) Dio origen al comunismo

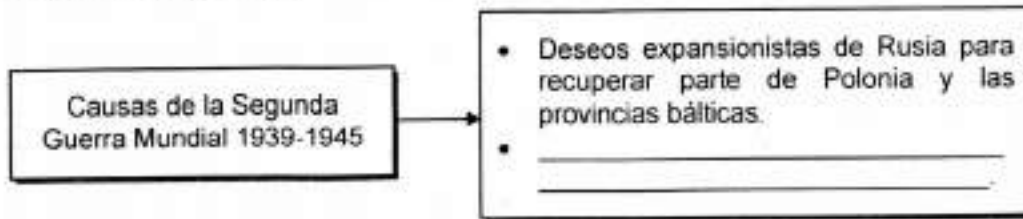
14) Lea el siguiente esquema:



¿Cuál opción completa correctamente el esquema anterior?

- A) Nazismo
 - B) Despotismo
 - C) Comunismo
 - D) Anarquismo
- 15) Un efecto de la crisis económica y la depresión de 1930, en Europa fue el establecimiento del fascismo en Italia. Una característica consistió en
- A) el respeto de las garantías y libertades individuales.
 - B) la aplicación de los principios del liberalismo.
 - C) el exterminio de la población de judía.
 - D) la práctica de un gobierno totalitarista.
- 16) ¿Cuál fue una consecuencia de la Revolución rusa?
- A) La firma de la alianza llamada Triple Entente.
 - B) La desaparición de las ideas fascistas en Europa.
 - C) La creación de la Unión de Repúblicas Socialistas Soviéticas.
 - D) Los cambios políticos que dieron origen a la Primera Guerra Mundial.

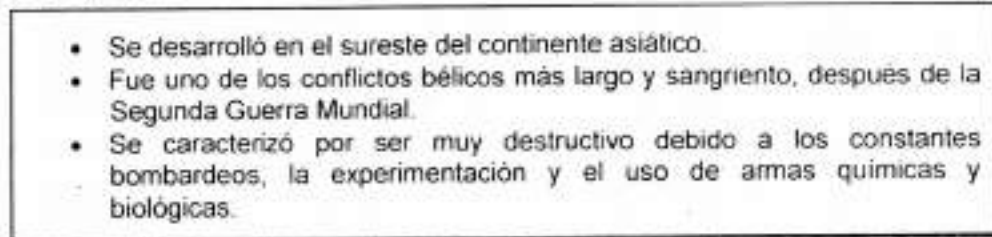
17) Lea el siguiente esquema:



¿Cuál opción completa correctamente el esquema anterior?

- A) Independencia de Austria y Hungría
 - B) Influencia del pensamiento ilustrado
 - C) Bipolaridad mundial entre comunistas y socialistas
 - D) Antagonismo ideológico entre demócratas y totalitarios
- 18) Al darse la desestructuración del bloque socialista, se dio como resultado el surgimiento y el desmantelamiento de muchas naciones, entre ellas la República de Checoslovaquia, la cual se dividió en las repúblicas
- A) Bosnia y Polonia.
 - B) Lituania y Estonia.
 - C) Checa y Eslovaquia.
 - D) Eslovenia y Macedonia.

19) Lea la siguiente información:



La información anterior hace referencia al conflicto desarrollado en los años de 1955 a 1975 entre Estados Unidos de América y

- A) Pakistán.
- B) Vietnam.
- C) Corea.
- D) China.

20) Lea la siguiente información:

El movimiento zapatista fue formado por indígenas en 1994, que decidieron organizarse con el fin de luchar por sus tierras, mejorar las condiciones de vida y derechos políticos, entre otros objetivos.

La información anterior se refiere al movimiento desarrollado en

- A) Colombia.
- B) México.
- C) Chile.
- D) Perú.

21) Con la Perestroika, Mijail Gorbachov pretendió entre otros aspectos

- A) eliminar la propiedad privada de las empresas.
- B) evitar la inversión extranjera en el territorio ruso.
- C) transformar la economía estatal en una de libre mercado.
- D) consolidar al partido Comunista ruso como único en toda la región.

22) Lea el siguiente texto:

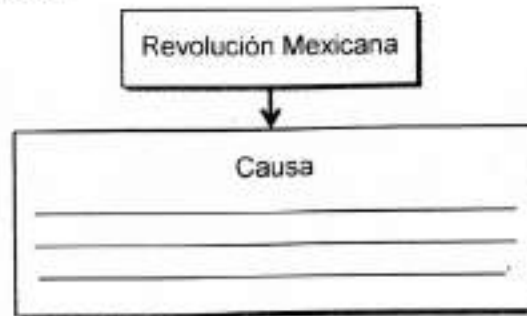
Con el desarrollo del proceso de globalización los gobiernos locales han perdido el poder de fiscalizar y controlar la economía, la ecología, la tecnología y la política, poniendo en duda la soberanía de los gobiernos locales. Pues en el mundo globalizado no son los países los que compiten, sino las empresas; por lo tanto, las grandes transnacionales como Coca Cola, Firestone, Intel y Toyota entre otras, son las que establecen las pautas de la competencia comercial.

El texto anterior identifica una de las manifestaciones de la globalización relacionada con

- A) el debilitamiento de las acciones del Estado nacional.
- B) el establecimiento de Estados supranacionales.
- C) la interdependencia de los cambios culturales.
- D) la supremacía de los monopolios políticos.

- 23) ¿Cuál fue una consecuencia de la revolución científica y tecnológica en el campo ambiental?
- A) Erradicación de los desechos sólidos e industriales que han generado una disminución significativa de la contaminación atmosférica y del calentamiento global.
 - B) Crecimiento desenfrenado de las industrias que han provocado graves problemas ecológicos y degradación irreparable de los ecosistemas.
 - C) Debilitamiento de los medios de transportes y uso de fuentes de energías limpias para su operación.
 - D) Desarrollo de la bioética que busca el equilibrio entre los derechos humanos y la dignidad humana.
- 24) ¿Cuál fue una de las principales causas de la crisis económica de 1929?
- A) El brusco descenso de las acciones de la Bolsa de Valores de Nueva York.
 - B) La disminución de materias primas provenientes de los países desarrollados.
 - C) El incremento de compradores de productos acabados en Estados Unidos de América.
 - D) El empobrecimiento generado en Estados Unidos de América por la Primera Guerra Mundial.
- 25) Con el modelo de sustitución de importaciones se buscó superar la crisis económica de 1929 en América Latina al
- A) automatizar la producción agraria.
 - B) eliminar los acuerdos de integración comercial.
 - C) ampliar la brecha entre los distintos grupos sociales.
 - D) promover la industrialización para producir lo que se requería.

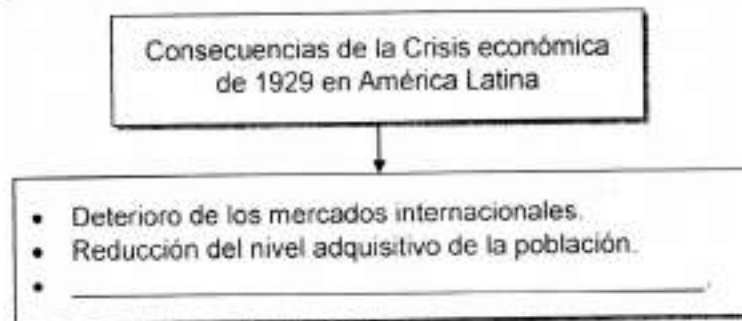
26) Lea el siguiente esquema:



¿Cuál opción completa correctamente el esquema anterior?

- A) El surgimiento del partido Revolucionario Institucional
- B) El descontento social por la dictadura de Porfirio Díaz
- C) El Estado se proclamó como un gobierno de tipo socialista
- D) El malestar del pueblo por la nacionalización de las riquezas minerales

27) Lea el siguiente esquema:



¿Con cuál opción se completa correctamente el esquema anterior?

- A) Detuvo el problema de la inflación en los países de la región
- B) Incremento de los movimientos antimperialistas
- C) Afianzamiento del Estado liberal
- D) Aumento de las exportaciones

28) Lea las siguientes características:

- | |
|--|
| 1. Tuvo entre sus propósitos derrocar del poder a Francisco Villa. |
| 2. Abarcó una serie de luchas y revueltas para intentar transformar el sistema social y político establecido del país. |
| 3. Estalló en 1910 como resultado de la insatisfacción popular en contra de las políticas elitistas y oligárquicas establecidas. |
| 4. Originado por los deseos oligarcas de asumir el poder político de la nación, así como establecer una forma de gobierno unipersonal. |

¿Cuáles de los números anteriores identifican dos causas de la Revolución mexicana?

- A) 1 y 2
- B) 1 y 4
- C) 2 y 3
- D) 3 y 4

29) ¿Cuál es una consecuencia del proceso de urbanización en América Latina?

- A) Generó la migración de la ciudad hacia el campo.
- B) Experimentó un rápido crecimiento a partir de 1930.
- C) Disminuyó la formación de anillos o cinturones de miseria.
- D) Satisfizo todas las expectativas de las personas que se ubicaron en la ciudad.

30) Lea la siguiente información:

- | |
|---|
| <ul style="list-style-type: none">• Desde 1925, el ejército empezó a intervenir en el Poder Ejecutivo.• Salvador Allende Gossens implantó una reforma económica basada en la nacionalización.• Con el gobierno de Arturo Alessandri Palma se experimentó cierto desarrollo económico. |
|---|

La información anterior hace referencia al proceso revolucionario en

- A) Chile.
- B) Ecuador.
- C) Argentina.
- D) Venezuela.

31) Lea el siguiente esquema:



¿Cuál opción completa correctamente el esquema anterior?

- A) El Salvador
- B) Guatemala
- C) Nicaragua
- D) Colombia

32) Actualmente Latinoamérica enfrenta una serie de problemas sociales como el narcotráfico, lo que ocasiona

- A) la consolidación de sociedades más equitativas.
- B) un acelerado crecimiento de actividades lícitas.
- C) la extinción de zonas marginales.
- D) el lavado de dinero.

33) ¿Cuál es una característica física del territorio costarricense?

- A) Forma parte de América Central Insular.
- B) El entorno natural posee abundantes recursos naturales y marítimos.
- C) El relieve al ser de reciente formación, carece de sismicidad y tectonismo.
- D) Su ubicación continental contribuye a la presencia de todos los climas del planeta.

34) Lea la siguiente información:

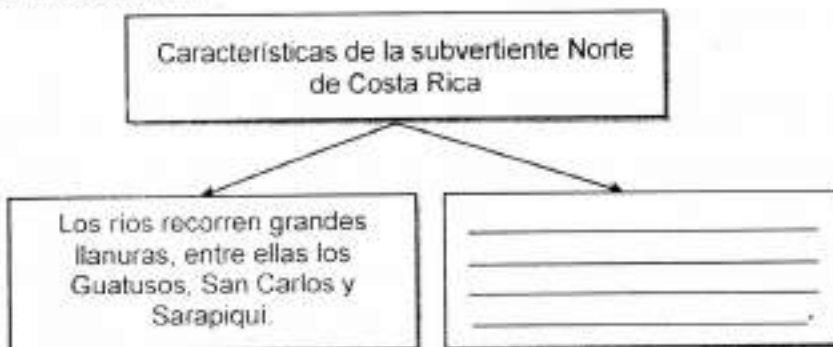
Tiene un basamento de sedimentos marinos del Oligoceno y Mioceno, los cuales se observan en los cerros de Patarrá. Estos sedimentos marinos fueron recubiertos por coladas de lodo o lahares que descendieron de las montañas. Sobre este tipo de depósito se localizan las ciudades como Cartago y San Antonio de Escazú.

Adaptado de Vargas Gilbert, Geografía de Costa Rica, Euned

La información anterior identifica características del paisaje geográfico de Costa Rica denominado

- A) valle de Coto Colorado.
- B) depresión tectónica Central.
- C) valle de El General Coto-Brus.
- D) depresión vulcano-tectónica del Arenal.

35) Lea el siguiente esquema:



¿Cuál opción completa correctamente el esquema anterior?

- A) Se ubican las principales plantas hidroeléctricas del país
- B) Los ríos forman meandros y albuferas, es decir lagunas costeras
- C) Los ríos presentan mayor pendiente por la cercanía a las montañas
- D) Los afluentes vierten sus aguas en el Lago de Nicaragua y río San Juan

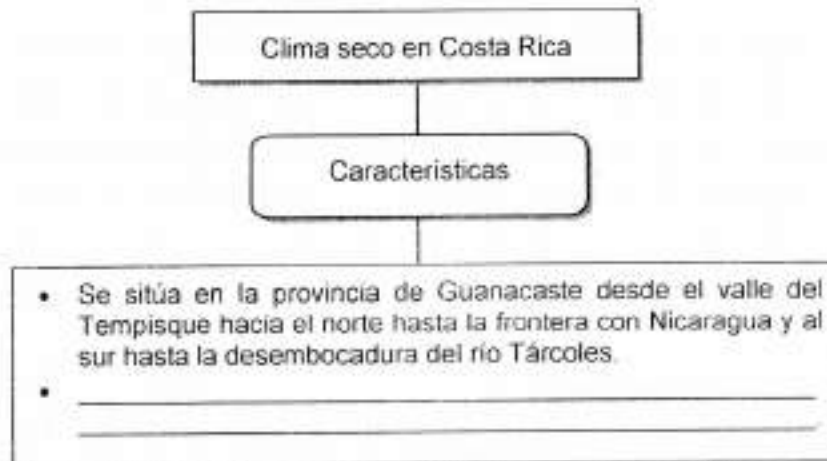
36) Lea las siguientes características:

- | |
|---|
| 1. La mayoría de los ríos son largos y sirven para la comunicación. |
| 2. En las desembocaduras se establecen importantes puertos. |
| 3. Durante la estación seca desciende o desaparece el caudal. |
| 4. Los ríos son cortos por la cercanía de las montañas a la costa. |

¿Cuáles números identifican dos características de los ríos de la vertiente pacífica de Costa Rica?

- A) 1 y 2
- B) 1 y 3
- C) 2 y 4
- D) 3 y 4

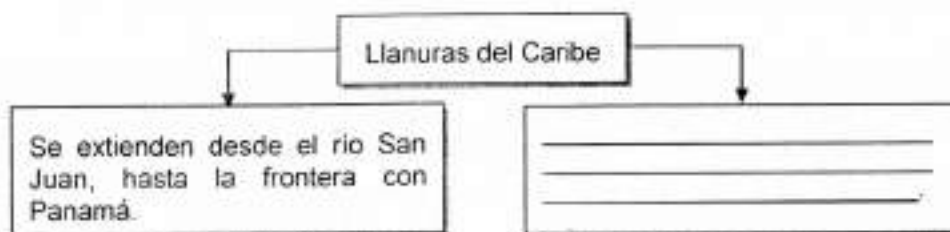
37) Lea el siguiente esquema:



¿Cuál opción completa correctamente el esquema anterior?

- A) Las cumbres de la cordillera están cubiertas de escarcha todo el año
- B) La vegetación típica es de árboles caducifolios y bosques deciduos
- C) Tiene pocas lluvias y las temperaturas superiores rondan los 18° C
- D) Presenta lluvias abundantes la mayor parte del año

38) Lea el siguiente esquema:



¿Cuál opción completa correctamente el esquema anterior?

- A) Se extienden a lo largo del sistema montañoso secundario
- B) La mayoría de sus ríos pierden el caudal durante la época seca
- C) Se caracterizan por ubicarse al interior del sistema montañoso central
- D) Son más amplias del país y se encuentran más lejos del sistema montañoso central

39) Lea el siguiente texto:

Se ubica al sureste del país y comprende el cantón de Pérez Zeledón de la provincia de San José y los cantones de Buenos Aires, Osa, Golfito, Coto Brus y Corredores de la provincia de Puntarenas. Su sede regional se localiza en San Isidro de El General.

El texto anterior hace referencia a la región socioeconómica

- A) Pacífico Central.
- B) Huertar Norte.
- C) Chorotega
- D) Brunca

40) ¿Cuál es una problemática que afecta a la población en la región Huertar Norte de Costa Rica?

- A) Falta de titulación de tierras.
- B) Contaminación de las zonas costeras.
- C) Inexistencia de todos servicios públicos.
- D) Crecimiento urbano planificado por la municipalidad.

41) Lea la siguiente información:

Deforestación	
Causas	Efectos
<ul style="list-style-type: none"> • Construcción de urbanizaciones o centros comerciales. • _____ • _____ 	<ul style="list-style-type: none"> • Erosión de los suelos. • Reducción de las fuentes de agua.

¿Cuál opción completa correctamente la información anterior?

- A) Expansión de la frontera agrícola
- B) Uso inadecuado de los desechos sólidos
- C) Presencia de eventos de origen tectónicos
- D) Disminución de las actividades del sector industrial

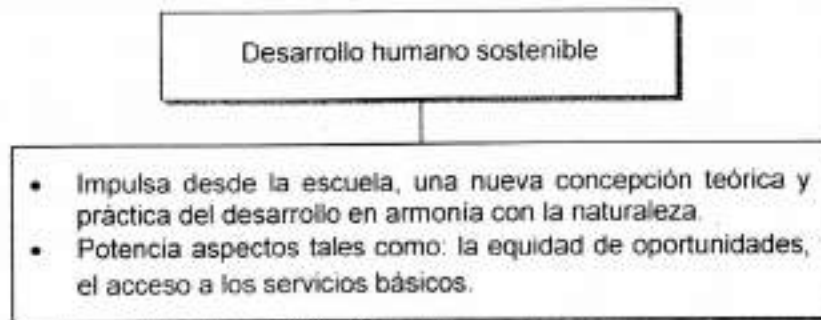
42) Lea los siguientes desafíos:

1. Disminuir los niveles de ruido y contaminación atmosférica.
2. Promover las migraciones de la zona rural a la zona urbana.
3. Brindar seguridad al turismo ecológico en las zonas costeras.
4. Crear «corredores verdes», áreas de recreación y limpiar los ríos.

¿Cuáles números de los anteriores identifican dos desafíos de la región Central de Costa Rica?

- A) 1 y 3
- B) 1 y 4
- C) 2 y 3
- D) 2 y 4

43) Lea la siguiente información:



¿Cuál es la implicación del desarrollo humano sostenible que se identifica en la información anterior?

- A) Económica
- B) Política
- C) Social
- D) Legal

44) Lea el siguiente texto:

Corresponde al número de habitantes por unidad de superficie expresada generalmente en kilómetros cuadrados.

¿Cuál es el concepto demográfico al que hace referencia el texto anterior?

- A) Concentración de población
- B) Distribución demográfica
- C) Crecimiento vegetativo
- D) Densidad de población

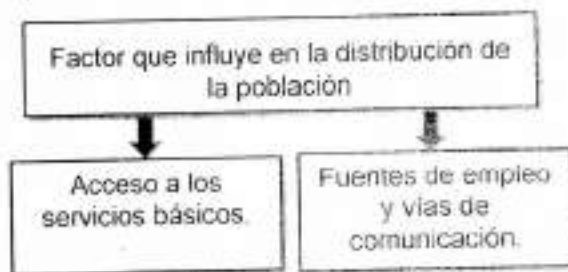
45) Lea las siguientes características:

1. Trata de lograr una relación armónica entre la existencia y la utilización de los recursos naturales.
2. Busca alcanzar el desarrollo y progreso social mediante el uso racional de los recursos naturales.
3. Pretende generar los mayores ingresos económicos por medio del uso irracional de los recursos naturales.
4. Considera como prioridad el progreso económico de la sociedad, mediante un uso indiscriminado del ambiente.

¿Cuáles números de los anteriores identifican dos características del desarrollo humano sostenible?

- A) 1 y 2
- B) 1 y 4
- C) 2 y 3
- D) 3 y 4

46) Lea el siguiente esquema



¿Cuál es el tipo de factor al que hace referencia el esquema anterior?

- A) Político
- B) Histórico
- C) Geográfico
- D) Socioeconómico

47) Lea el siguiente texto:

Han sido espacios que por sus características físicas han tenido escasa densidad de población, ya que la topografía dificulta el desarrollo para sus habitantes.

El factor descrito en el texto anterior que influye en la distribución de la población se denomina

- A) socioeconómico.
- B) geográfico.
- C) histórico.
- D) cultural.

48) La distribución geográfica de la población en Costa Rica se caracteriza porque

- A) se concentra principalmente en los litorales.
- B) las zonas rurales son los sectores con más cantidad de población.
- C) la Gran Área Metropolitana presenta una gran concentración de habitantes.
- D) se presenta una distribución equitativa de habitantes en las diversas zonas del país.

49) Una de las medidas decretada por el presidente Alfredo González Flores, fue la creación del Banco Internacional de Costa Rica, con el propósito de

- A) controlar y aprobar todos los recursos financieros del mercado externo.
- B) facilitar créditos accesibles a los propietarios de las grandes empresas.
- C) financiar el desarrollo de las actividades industriales y de manufactura.
- D) expandir la estructura productiva y estimular la producción agrícola.

50) Lea el siguiente texto:

Este impuesto se aplicaría a los habitantes del país, sin importar su nacionalidad y a quienes tuvieran bienes o empresas de cualquier tipo. Se pagaría un impuesto proporcional, directo y progresivo sobre el total de sus ingresos, cuando alcanzaran o superaran el mínimo fijado por la ley.

Licenciado Alfredo González Flores

El texto anterior hace referencia, al impuesto implementado por Alfredo González Flores en el ámbito tributario denominado

- A) bienes inmuebles.
- B) exenciones.
- C) territorial.
- D) renta.

51) Lea los siguientes aspectos:

1. Defendió los intereses de la clase obrera.

2. Propuso un escalafón para la administración pública.

3. Participó activamente en el establecimiento de las garantías individuales.

4. Promovió la educación de los sectores industriales y la conciencia de clase.

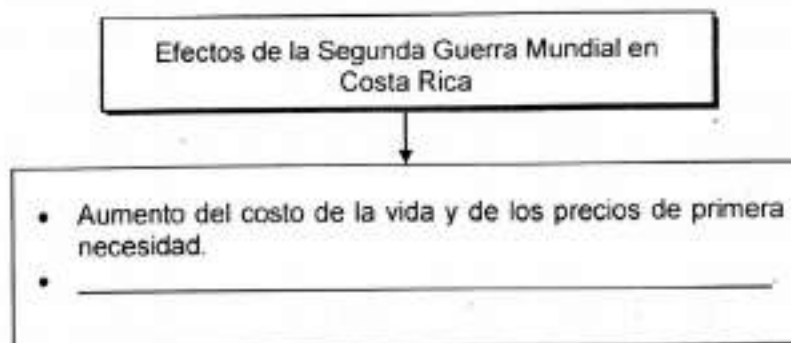
¿Cuál número de los anteriores identifica un aspecto en el que influyó el partido Comunista en Costa Rica?

- A) 1
- B) 2
- C) 3
- D) 4

52) La Primera Guerra Mundial originó un impacto directo en la economía de Costa Rica, lo que influyó en el debilitamiento del Estado liberal, esto porque

- A) el modelo de desarrollo hacia adentro era ineficaz.
- B) provocó la quiebra de las compañías industriales costarricenses.
- C) anuló parcialmente los tratados de libre comercio con Estados Unidos de América.
- D) demostró la fragilidad del modelo agroexportador, que dependía del café principalmente.

53) Lea el siguiente esquema:



¿Cuál opción completa correctamente el esquema anterior?

- A) Equilibrio en la balanza de pagos
- B) Afectación del mercado interno
- C) Disminución del déficit fiscal
- D) Crisis del Estado benefactor

54) Lea el siguiente texto:

La emigración internacional ha contribuido con los cambios demográficos y ha incidido en la estructura de la población. Los migrantes que laboran en Costa Rica, procedentes de Nicaragua superaron las 130 000 personas en cada año del periodo 2003-2008, mientras que el segundo lugar lo ocupan los _____.

¿Cuál opción completa correctamente el texto anterior?

- A) panameños
- B) colombianos
- C) salvadoreños
- D) estadounidenses

55) Lea la siguiente información:

- | |
|--|
| 1. Los obreros rechazaron de manera rotunda la aprobación de la legislación social. |
| 2. El fraude y las anomalías en el desarrollo de las elecciones presidenciales desembocaron en la Huelga de Brazos Caídos. |
| 3. La abolición del ejército contribuyó a que se destinaran mayores en el ámbito de la salud y la educación. |
| 4. La desconfianza de la población por los actos de corrupción y nepotismo en la función pública. |

¿Cuáles números de los anteriores identifican dos causas de la Guerra Civil de 1948?

- A) 1 y 3
- B) 1 y 4
- C) 2 y 3
- D) 2 y 4

56) Lea la siguiente información:

Surgió ante la necesidad de proteger a la clase trabajadora, con el fin de que tuvieran acceso a los servicios básicos de salud y seguridad social, lo cual contribuyó a mejorar la calidad de vida de las personas con menos recursos económicos.

La información anterior hace referencia a la institución creada en la década de 1940 llamada

- A) Ministerio de Salud.
- B) Junta de Protección Social.
- C) Instituto Nacional de Seguros.
- D) Caja Costarricense de Seguro Social.

57) Lea el siguiente texto:

La clase dominante en Costa Rica veía amenazados sus privilegios económicos, porque sus intereses estaban siendo afectados, por eso, los patronos expresaban gran disgusto por su aprobación, ya que esta medida favorecía a la clase trabajadora del país.

El texto anterior identifica una de las causas de la Guerra Civil de 1948 en Costa Rica relacionada con la

- A) aprobación de la legislación social.
- B) creación de instituciones autónomas.
- C) formación de los sindicatos de trabajadores.
- D) fundación del Tribunal Supremo de Elecciones.

58) Lea las siguientes características:

1. Impulsó la modernización del agro y la industria.
2. Fomentó mecanismos de movilidad social descendentes.
3. Realizó mayor inversión en el campo de la salud y la educación.
4. Implementó la aplicación de los programas de ajuste estructural.

¿Cuáles números de los anteriores identifican dos características del Estado benefactor?

- A) 1 y 2
- B) 1 y 3
- C) 2 y 4
- D) 3 y 4

59) ¿Cuál es una característica del modelo de sustitución de importaciones?

- A) Incentivó la modernización de las actividades agropecuarias.
- B) Acentuó la dependencia de los productos de monocultivo.
- C) Desarrolló una política de salarios decrecientes.
- D) Restringió las inversiones de capital extranjero.

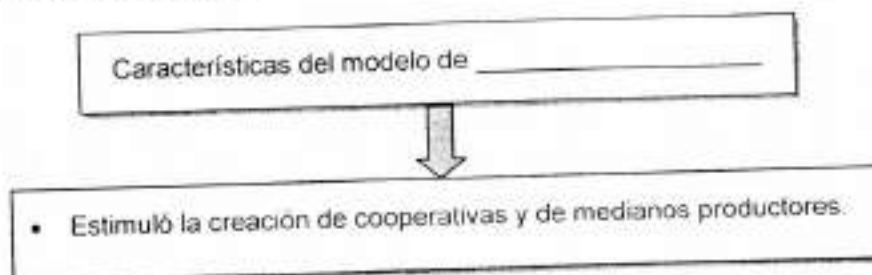
60) Lea las siguientes características:

- | |
|--|
| 1. El Estado se convirtió en el ente rector de la economía nacional. |
| 2. Se inició la venta y privatización de diversas empresas estatales. |
| 3. Se impulsó la diversificación de la producción nacional a fin de consolidar el mercado interno. |
| 4. Se promovió la movilidad laboral, con el propósito de que el Estado dejara de ser el principal empleador. |

¿Cuáles números de los anteriores identifican dos características del Estado gestor en Costa Rica?

- A) 1 y 2
- B) 1 y 3
- C) 2 y 4
- D) 3 y 4

61) Lea el siguiente esquema:



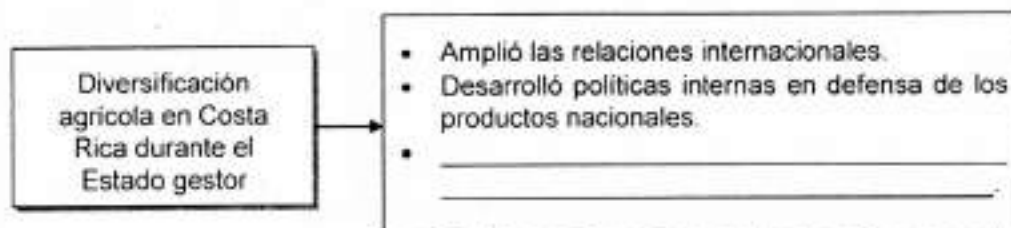
¿Cuál opción completa correctamente el esquema anterior?

- A) monocultivo
- B) diversificación agrícola
- C) desarrollo hacia afuera
- D) promoción de importaciones

62) ¿Cuál es una característica social de Costa Rica durante el Estado desarrollista?

- A) Ampliación de la cobertura en cada uno de los ciclos educativos, situación que contribuyó en la reducción de las tasas de analfabetismo.
- B) Mejoramiento de las condiciones de salubridad únicamente en los sectores ubicados en el Valle Central.
- C) Creación de centros educativos privados con la finalidad de reducir totalmente la deserción escolar.
- D) Extensión de los servicios de atención médica en los centros hospitalarios del sector privado.

63) Lea el siguiente esquema:



¿Cuál opción completa correctamente el esquema anterior?

- A) Dejó de cultivar los productos tradicionales
 - B) Paralizó la importación de bienes agrícolas
 - C) Estimuló la expulsión de las compañías extranjeras ubicadas en el país
 - D) Amplió la oferta al mercado internacional con el auge de productos no tradicionales
- 64) Una causa de la crisis del Estado benefactor de 1980 en Costa Rica, está relacionada con
- A) la recesión mundial, provocada por el aumento de los precios de los hidrocarburos.
 - B) el proceso de devaluación que sufrió el dólar con respecto al colón.
 - C) la disminución de las importaciones y balanza de pagos.
 - D) el decrecimiento de la burocracia y del aparato estatal.

65) En Costa Rica, a partir de 1980 se implementó el Estado neoliberal y con él una serie de implicaciones, una de éstas dirigida a

- A) favorecer la injerencia del gobierno en la búsqueda de soluciones a todos los problemas sociales.
- B) aplicar acciones correctivas mediante los programas de ajuste estructural.
- C) erradicar las inversiones del gasto público y déficit fiscal.
- D) desestimar los procesos de apertura comercial.

66) Lea los siguientes aspectos.

1. La descentralización de los Equipos Básicos de Atención Integral en Salud.
2. Reducción de las inversiones destinadas al sector educativo.
3. Contracción de los gastos por concepto de deuda interna y externa.
4. Aumento de la brecha social y de los niveles de desempleo.

¿Cuáles números de los anteriores identifican aspectos relacionados con la reforma del Estado a partir de la década de 1980?

- A) 1, 2, 4
- B) 1, 2, 3
- C) 1, 3, 4
- D) 1, 3, 2

67) Lea las siguientes atribuciones:

<ul style="list-style-type: none"> • Contribuye con el fortalecimiento pleno del derecho internacional. • Propicia la convivencia pacífica y la seguridad en los países centroamericanos que lo integran. • Promueve la consolidación del sistema democrático, pluralista y participativo en los países centroamericanos.
--

Las atribuciones anteriores corresponden al organismo denominado

- A) Organización de Estados Centroamericanos.
- B) Sistema de Integración Centroamericana.
- C) Organización de Estados Americanos.
- D) Parlamento Centroamericano.

68) Lea el siguiente texto:

Es uno de los temas más críticos en la zona, afectando los elementos básicos en materia de respeto a la vida y los derechos, en El Salvador, Guatemala, Honduras y Belice. Según el Estado de la Región presentan una tasa de homicidios 30 por cada 100 mil habitantes.

Antología Estudios Sociales 10^o y 11^o, CONED

El texto anterior identifica uno de los desafíos que presentan los países centroamericanos en materia de

- A) justicia social.
- B) exclusión social.
- C) seguridad ciudadana.
- D) igualdad de oportunidades.

69) Lea las siguientes situaciones:

- Asaltos a mano armada a plena luz del día.
- Robos a viviendas y negocios comerciales.
- Bajonazos y despojos a conductores de automóviles.

Las situaciones anteriores se relacionan con un desafío que debe enfrentar la sociedad costarricense, para ello es importante

- A) desarrollar políticas de detención carcelaria contra toda aquella persona sospechosa de cometer un delito.
- B) impulsar políticas encaminadas a erradicar exclusivamente la inseguridad urbana.
- C) mejorar la calidad de vida y fuentes de empleo de la población nacional.
- D) establecer penas más blandas en las cárceles del país.

- 70) Un desafío de la sociedad costarricense, lo constituye el desarrollo humano sostenible. Una acción que se debe implementar consiste en
- A) reducir las leyes que contribuyen con la conservación de los recursos naturales.
 - B) crear planes que reduzcan los niveles de contaminación ocasionados por la flota vehicular.
 - C) promover políticas orientadas a la restricción del uso de los recursos hídricos en labores agropecuarias.
 - D) desestimular en las personas las prácticas relacionadas con el manejo adecuado de los desechos sólidos.

Respuestas - Estudios Sociales Bachillerato

I - Convocatoria 2018

Ítem	Respuesta	Ítem	Respuesta
1	C	36	D
2	B	37	B
3	C	38	D
4	A	39	D
5	B	40	A
6	C	41	A
7	B	42	B
8	D	43	C
9	A	44	D
10	A	45	A
11	C	46	D
12	B	47	B
13	A	48	C
14	A	49	D
15	D	50	D
16	C	51	A
17	D	52	D
18	C	53	B
19	B	54	B
20	B	55	D
21	C	56	D
22	A	57	A
23	B	58	B
24	A	59	D
25	D	60	B
26	B	61	B
27	B	62	A
28	C	63	A
29	B	64	A
30	A	65	B
31	C	66	C
32	D	67	B
33	B	68	C
34	B	69	C
35	D	70	B
Posible apelación			