

**Práctica**  
**Tercer Ciclo E.G.B.A**  
**Térraba (Sétimo)**

# Formación Ciudadana

**Este documento confidencial es propiedad del Ministerio de Educación Pública, su reproducción parcial o total está prohibida por la ley.**

# Instrucciones para realizar la prueba

## **A. Materiales para realizar la prueba**

- ✓ Un cuadernillo que contiene únicamente ítems de selección.
- ✓ Una hoja para respuestas (hoja para lectora óptica).
- ✓ Un bolígrafo con tinta azul o negra. (No utilice marcador o pluma).
- ✓ Un corrector con líquido blanco.

## **B. Indicaciones generales**

1. Escriba los datos que se le solicitan en el envés de la hoja para respuestas.
2. Solo se calificará lo que aparece en su hoja para respuestas.
3. En la hoja para respuestas, no altere ni realice correcciones en el recuadro que tiene impreso sus datos personales y código de barras. Utilice el espacio para observaciones.
4. No utilice los espacios correspondientes a identificación y tiempo que se encuentran en la hoja para respuestas, a menos que se le indique.
5. Apagar teléfonos celulares, aparatos reproductores de música o cualquier artefacto electrónico que pueda causar interferencia durante la aplicación de la prueba.
6. Quitarse los audífonos.
7. No usar gorra ni lentes oscuros.
8. El folleto de la prueba debe permanecer doblado mientras lo esté resolviendo, con excepción de la prueba de idioma extranjero.
9. Estas instrucciones no deben ser modificadas por ningún funcionario que participe en el proceso de administración de la prueba.

## **C. Para responder los ítems de selección en el cuadernillo**

1. Antes de iniciar la prueba, revise que el cuadernillo esté bien compaginado, sin hojas manchadas y que contenga la totalidad de los ítems indicados en el encabezado de la prueba. Debe avisar inmediatamente al delegado de aula en caso de encontrar cualquier anomalía.
2. Utilice el espacio en blanco al lado de cada ítem para realizar cualquier anotación, si lo considera necesario. No se permite hojas adicionales.
3. Lea cada enunciado y sus respectivas opciones. Seleccione y marque en el cuadernillo la opción que es correcta para cada caso. Recuerde que de las cuatro opciones (A-B-C-D) que presenta cada ítem, solo una opción es correcta.

## **D. Para rellenar los círculos en la hoja para respuestas**

1. **Rellene completamente con bolígrafo el círculo correspondiente a la letra seleccionada** para cada ítem en la hoja para respuestas. Solo debe rellenar un círculo como respuesta para cada ítem. Por ejemplo:



2. Si se equivoca o desea cambiar su selección, utilice corrector con líquido blanco en la selección errónea y rellene con bolígrafo el círculo que desea escoger. Escriba la corrección efectuada en el espacio para observaciones de la hoja para respuestas y firme. Por ejemplo: **80=B, firma**.

SELECCIÓN ÚNICA

55 ÍTEMS

1) Realice la siguiente asociación:

Concepto		Definición
1. Derecho	( )	Implica que la persona dispone de «juicio político» o sentido para razonar, discernir, decidir y actuar conforme lo que considere mejor para la convivencia social.
2. Deber	( )	Aquello que están obligadas las personas por preceptos jurídicos o éticos.
3. Ciudadano	( )	Es el conjunto de leyes, reglamentos y demás resoluciones, obligaciones, creado por el Estado para la organización del orden social.

¿Cuál es la relación correcta de la asociación anterior?

- A) 2, 1 y 3
- B) 2, 3 y 1
- C) 3, 1 y 2
- D) 3, 2 y 1

2) Lea el siguiente artículo:

Artículo 1°. «Costa Rica es una República democrática, libre e independiente».

*Constitución Política de Costa Rica*

El texto anterior hace referencia a que, en Costa Rica, se deben favorecer prácticas como

- A) el privilegio de acciones militares.
- B) la toma de decisiones autoritarias.
- C) la unión política con otros Estados.
- D) los procesos electorales cada cierto período.

3) Lea los siguientes aspectos:

- Honrar a la patria y sus símbolos.
- Respetar, obedecer a sus padres, representantes o responsables.
- Respetar la diversidad de conciencia, pensamiento, religión y cultura.

De acuerdo con el artículo 11° del Código de la Niñez y de la Adolescencia en Costa Rica, los aspectos anteriores corresponden a

- A) deberes.
- B) derechos.
- C) beneficios.
- D) retribuciones.

4) Lea el siguiente esquema:

Concepto de \_\_\_\_\_



Son las personas que constituyen la población de un barrio, ciudad, provincia o nación. Todas tienen derechos y deberes, excepto el derecho de elegir y ser electas en cargos públicos.

*Adaptado de Programas de Educación Cívica, MEP 2009*

¿Con cuál opción se completa correctamente el esquema anterior?

- A) habitantes con alguna discapacidad.
- B) ciudadanos por naturalización
- C) sociedades permanentes.
- D) ciudadanía joven.

5) Lea los siguientes aspectos:

1. Observar la Constitución y las leyes.
2. Cumplir con el servicio policial obligatorio.
3. Servir a la patria, defenderla y contribuir con los gastos públicos.
4. Imponer el respeto ante los habitantes de la comunidad formando agrupaciones delictivas.

De acuerdo con el artículo 18° de la Constitución Política de Costa Rica, ¿con cuáles números de los anteriores se identifican dos deberes de los costarricenses?

- A) 1 y 2
- B) 1 y 3
- C) 2 y 4
- D) 3 y 4

6) Lea los siguientes aspectos:

1. Acceder a la educación primaria gratuita y costeada por el Estado.
2. Intervenir en los asuntos políticos del país.
3. Recibir seguridad social y de salud.
4. Ejercer el derecho al sufragio.

¿Con cuáles números de los anteriores se identifican dos derechos que tienen los extranjeros que habitan en Costa Rica, según el artículo 19° de la Constitución Política?

- A) 1 y 4
- B) 1 y 3
- C) 2 y 3
- D) 2 y 4

- 7) ¿Cuál es una solución a la inseguridad ciudadana en el marco del régimen democrático costarricense?
- A) Una represión violenta de toda conducta antisocial.
  - B) El establecimiento de la pena de muerte en delitos contra la propiedad.
  - C) Una acción integral basada en la educación y la equidad, para una mejor distribución de la riqueza.
  - D) Hacer justicia basada en largas condenas de cárcel de acuerdo con la situación social de quien comete el delito.

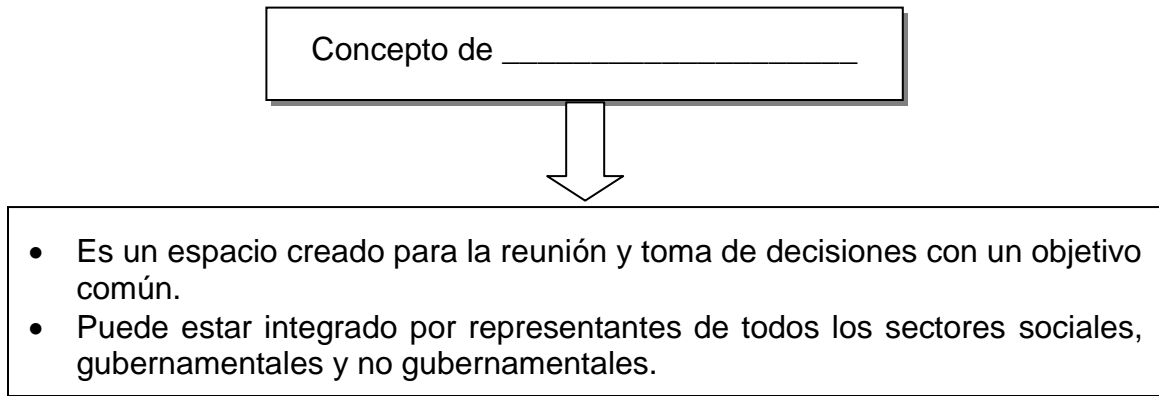
- 8) Lea los siguientes aspectos:

1. Generar mayor empleo y mejorar la cobertura de servicios.
2. Aplicar la justicia con programas destinados a reconstruir el orden social.
3. Aceptar con resignación el aumento de la delincuencia en las comunidades.
4. Rechazar el debido proceso judicial, ya que este se extiende por varios años para enjuiciar y dictar las sentencias a los delincuentes.

De los aspectos anteriores, ¿cuáles números identifican dos medidas que se deben aplicar para enfrentar la inseguridad ciudadana en Costa Rica?

- A) 1 y 2
  - B) 1 y 4
  - C) 2 y 3
  - D) 3 y 4
- 9) Una posible acción legal necesaria para lograr la construcción de espacios seguros en las comunidades costarricenses, consiste en
- A) ignorar las acciones de las bandas de delincuentes organizadas.
  - B) evitar el uso de los parques y plazas para las actividades diarias.
  - C) integrar a la población en la defensa de sus derechos civiles.
  - D) que cada comunidad «tome la justicia por sus manos».

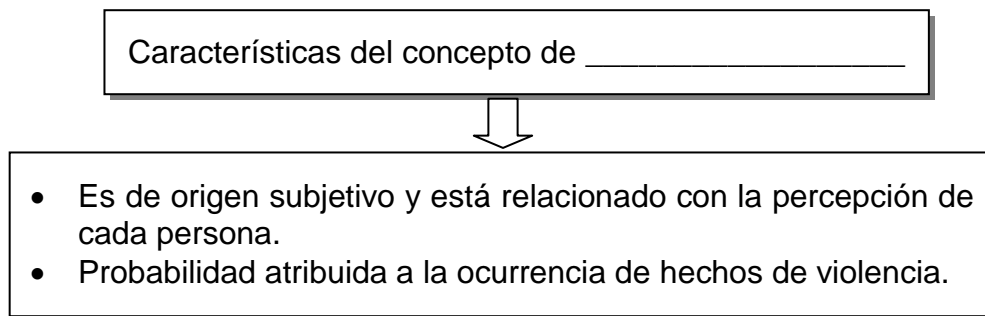
10) Lea el siguiente esquema:



¿Cuál es el concepto que completa correctamente el esquema anterior?

- A) organización comunitaria
- B) institución autónoma
- C) barrio marginal
- D) partido político

11) Lea el siguiente esquema:



¿Con cuál opción se completa correctamente el esquema anterior?

- A) delito
- B) seguridad
- C) inseguridad real
- D) inseguridad percibida

12) Lea la siguiente información:

1. Crear mayores y mejores empleos.
2. Promover la erradicación de la pobreza extrema.
3. Aumentar la capacidad de los Centros de Atención Integral (CAI).
4. Crear cárceles para la población menor de edad en cada uno de los cantones del país.

¿Con cuáles números de los anteriores se identifican dos acciones preventivas para disminuir la inseguridad ciudadana en Costa Rica?

- A) 1 y 2
- B) 1 y 3
- C) 2 y 4
- D) 3 y 4

13) Lea la siguiente información:

- Asegurar el ejercicio de las garantías constitucionales y el mantenimiento del orden público.
- Salvaguardar la soberanía del territorio nacional, aguas territoriales, plataforma continental y espacio aéreo de la República.

La información anterior hace referencia a funciones de la institución pública costarricense denominada

- A) Ministerio Público.
- B) Ministerio de Seguridad Pública.
- C) Ministerio de Gobernación y Policía.
- D) Dirección de Migración y Extranjería.



14) Lea la siguiente información:

1. Redactar leyes que impidan el delito.
2. Vigilar y proteger los bienes de las personas en cada cantón.
3. Velar por el correcto desarrollo de las actividades educativas locales.
4. Proteger a la niñez y adolescencia en condiciones de vulnerabilidad y exclusión social.

¿Con cuál número de los anteriores se identifica una acción que realiza la Policía Municipal en Costa Rica?

- A) 1
  - B) 2
  - C) 3
  - D) 4
- 15) En Costa Rica, el Organismo de Investigación Judicial es una de las instituciones encargadas de la seguridad; su importancia radica en
- A) brindar custodia a bienes privados de interés nacional que salgan o circulen por el país.
  - B) ejecutar de forma obligatoria las decisiones y resoluciones municipales del cantón al que pertenezca.
  - C) garantizar la efectiva administración de los bienes materiales de las personas a quienes se les impuso prisión preventiva.
  - D) efectuar aprehensiones a los presuntos culpables según la Ley de psicotrópicos, violencia intrafamiliar y delitos contra la propiedad de las personas.

16) Lea los siguientes aspectos:

1. Los actos cometidos por un menor de doce años de edad que constituyan delito, <u>no</u> serán sancionados por esta ley.
2. En caso de que un menor de edad deba enfrentar un proceso judicial, <u>no</u> tiene derecho de aportar pruebas a su favor.
3. La protección integral del menor de edad y el respeto a sus derechos, son principios que rigen esta ley.
4. Los menores de edad que cometan un delito <u>no</u> tienen oportunidad de tener un abogado defensor.

¿Con cuáles números de los anteriores se identifican dos aspectos relacionados con la Ley de Justicia Penal Juvenil en Costa Rica?

- A) 1 y 3
- B) 1 y 4
- C) 2 y 3
- D) 2 y 4

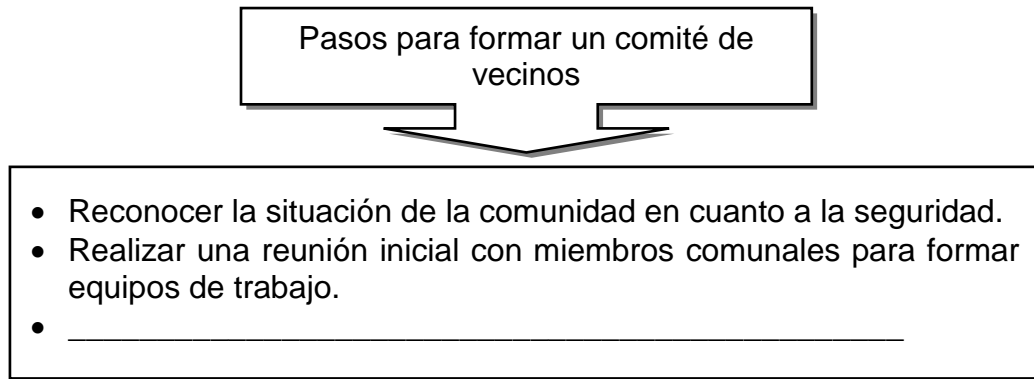
17) En Costa Rica, en relación con la seguridad ciudadana, las comunidades se han organizado en comités de vecinos; estos a su vez difunden información sobre medidas preventivas a seguir. Una de ellas consiste en

- A) evitar las reuniones periódicas de la comunidad para no generar sospechas entre los delincuentes.
- B) negociar con las personas que delinquen para obtener protección y seguridad para todos los integrantes de las familias.
- C) salir de la casa solo con lo necesario, observar lo que acontece alrededor y denunciar alguna situación sospechosa.
- D) realizar actividades comunales para obtener fondos que se utilicen en la compra de armas, en procura de aumentar la seguridad comunitaria.

18) En relación con la creación de los comités de vecinos, ¿cuál es un objetivo de estos para la organización de la seguridad ciudadana?

- A) Exigir al Estado el pago de servicios privados de seguridad en la comunidad.
- B) Definir las políticas y planes a seguir con respecto a temas de seguridad nacional.
- C) Promover la contratación de seguridad privada para reemplazar la seguridad pública.
- D) Favorecer el contacto entre las partes que integran la comunidad para la implementación de las acciones a realizar.

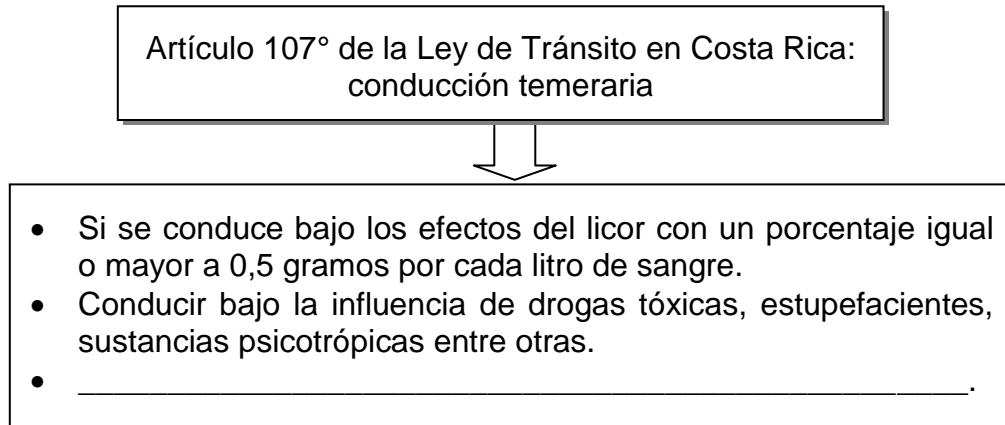
19) Lea el siguiente esquema:



¿Con cuál opción se completa correctamente el esquema anterior?

- A) Contratar los servicios de seguridad privada con anterioridad.
- B) Integrar a las personas que delinquen en los equipos de trabajo.
- C) Coordinar con los funcionarios del Ministerio de Seguridad Pública.
- D) Descartar los consejos que ofrece las entidades gubernamentales relacionadas con la seguridad ciudadana.

20) Lea el siguiente esquema:



¿Con cuál opción se completa correctamente el esquema anterior?

- A) Huir, sin justa causa, después de ocasionar un accidente.
- B) Circular en cualquier vía pública a una velocidad reducida.
- C) Alterar la apariencia del vehículo, como su color o cambio de placa.
- D) Conducir en una vía pública a más de ciento veinte kilómetros por hora.

21) Lea el siguiente esquema:

Señales de Tránsito	
Verticales	Consisten en placas colocadas sobre los postes y ubicadas a la orilla de la calzada.
Luminosas	_____ _____

¿Con cuál opción se completa correctamente el esquema anterior?

- A) Consisten en placas de color amarillo brillante.
- B) Entre estas señales se encuentra el semáforo.
- C) Son señales que tienen información de tipo turístico.
- D) Se utilizan de color blanco y azul, reglamentando el accionar del conductor.

- 22) Las señales de tránsito que se pintan sobre la propia calzada o en el borde de la acera y el espaldón, se llaman
- A) horizontales.
  - B) reductoras.
  - C) luminosas.
  - D) verticales.

- 23) Lea el siguiente texto:

Consiste en la prevención o minimización de accidentes de tránsito o de sus efectos, para la vida y salud de las personas, cuando se presenta un accidente.

*Adaptado de Formación Ciudadana Térraba, MEP-ICER, 2010.*

El texto anterior se refiere al concepto de

- A) tráfico.
  - B) sistema vial.
  - C) seguridad vial.
  - D) educación vial.
- 24) Lea el siguiente texto:

En Costa Rica casi dos personas por día perdieron la vida en accidentes de tránsito durante los primeros 29 días del año. A ese ritmo, las muertes en carreteras podrían superar a la cifra de homicidios que ya está a un nivel considerado como epidemia. Una combinación de alta velocidad, licor, drogas e imprudencias en aras de acortar tiempo, hacen que los percances viales sean más y más violentos.

*Adaptado de <http://www.nacion.com/sucesos/accidentes/muertes-carretas-enero,2017>*

De acuerdo con el texto anterior, ¿cuál es un aspecto de la seguridad vial que incumplen los usuarios de las vías?

- A) Irrespeto a la Ley de Tránsito.
- B) Fomento de las causas que evitan accidentes.
- C) Proceso de aprendizaje encaminado al desarrollo de destrezas en las vías.
- D) Aplicación adecuada de las leyes de tránsito mediante los dispositivos de control.

25) Lea la siguiente información:

Consiste en el conjunto de calles, carreteras y caminos de una región determinada.

La información anterior hace referencia al concepto de

- A) tránsito.
- B) sistema vial.
- C) vías alternas.
- D) senderos peatonales.

26) Lea la siguiente información:

- Tener los vehículos en excelentes condiciones.
- Promover una cultura vial responsable.

En relación con los objetivos de la seguridad vial, la información anterior identifica acciones que buscan

- A) prevenir accidentes de tránsito.
- B) multar a los conductores ebrios.
- C) promover las causas que producen accidentes.
- D) velar por el cumplimiento de la Revisión Técnica Vehicular.

27) Lea los siguientes requisitos:

- Saber leer y escribir.
- Presentar examen médico realizado por un profesional autorizado.
- Ser mayor de 17 años y tener aprobado el curso de seguridad vial.
- Suscribir una póliza de seguros que incluya lesiones, muerte, accidente y daños a terceros.

Los requisitos anteriores corresponden a personas que desean obtener

- A) la licencia de aprendiz de conductor de bicicleta en las vías públicas.
- B) el carné permanente para conducir un vehículo automotor.
- C) el permiso temporal de aprendiz de conductor.
- D) la autorización para conducir motocicletas.

28) Realice la siguiente asociación:

Concepto		Definición
1. Calzada	( )	Parte de la vía que sirve de protección a los efectos de la erosión. En ocasiones se destina para la detención de vehículos de emergencia.
2. Espaldón	( )	Superficie destinada al tránsito de vehículos.
3. Camino vecinal	( )	Rutas públicas que unen caseríos, poblados y fincas.

¿Cuál es la relación correcta de la asociación anterior?

- A) 1 – 2 – 3
- B) 1 – 3 – 2
- C) 2 – 1 – 3
- D) 2 – 3 – 1

29) ¿Cuál es una posible causa de accidentes de tránsito en Costa Rica?

- A) Las carreteras demarcadas.
- B) La conducción con precaución.
- C) La condición favorable del clima.
- D) El mal diseño geométrico de las carreteras.

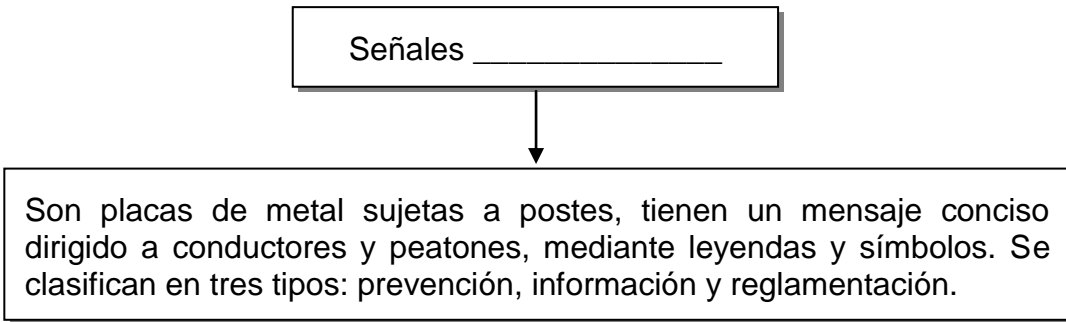
30) Lea los siguientes aspectos:

1. Los ingresos familiares se ven perjudicados por las víctimas que fallecen.
2. La presencia de espaldones debidamente demarcados.
3. La construcción de rotondas en zonas de alto tránsito.
4. El impacto en la mortalidad o esperanza de vida.

¿Con cuáles números de los anteriores se identifican dos consecuencias como producto de los accidentes de tránsito en Costa Rica?

- A) 1 y 3
- B) 1 y 4
- C) 2 y 3
- D) 2 y 4

31) Lea el siguiente esquema:



¿Con cuál opción se completa correctamente el esquema anterior?

- A) verticales
- B) luminosas
- C) horizontales
- D) convencionales



32) Lea el siguiente texto:

En Costa Rica el índice de accidentes de tránsito y las muertes por causa de los mismos aumenta cada año, la mayoría de víctimas que perecen en el sitio se encuentran en edades entre 20 y 40 años.

De acuerdo con el texto anterior, los índices de muertes en carretera pueden disminuir

- A) estableciendo leyes menos severas en contra de los conductores.
- B) persuadiendo a las autoridades correspondientes para que eviten aplicar la ley de tránsito.
- C) omitiendo el compromiso como conductores, peatones y pasajeros en el uso de las vías públicas.
- D) asumiendo conductas responsables en el uso de la red vial.

33) Lea el siguiente esquema:

Uso adecuado del sistema vial por parte de los \_\_\_\_\_.



- No botar cáscaras de frutas u otras basuras que puedan provocar accidentes.
- Evitar transitar muy a la orilla de la acera para no sufrir golpes.

¿Con cuál opción se completa correctamente el esquema anterior?

- A) peatones
- B) autobuses
- C) conductores de vehículos
- D) conductores de motocicletas


34) Lea el siguiente texto:

Se utilizan para indicar al conductor peligros que podría encontrar en la carretera. Pueden señalar reducción de velocidad u otras maniobras para evitar accidentes. Tienen forma de cuadrado, fondo color amarillo y borde color negro, con alguna leyenda o simbología.

El texto anterior describe el tipo de señal de tránsito vertical denominada

- A) luminosa.
- B) prevención.
- C) información.
- D) reglamentación.

35) Observe la siguiente imagen:



¿Cuál es el tipo de señal de tránsito que se identifica con el número 1?

- A) Vertical
- B) Luminosa
- C) Horizontal
- D) Reglamentación

36) Los accidentes de tránsito en Costa Rica representan la primera causa de muertes violentas. Educar a la población sobre las medidas de prevención y seguridad vial, crear hábitos y actitudes positivas para una mejor convivencia e incorporar la instrucción vial como parte de la formación ciudadana, son aspectos importantes que promueven

- A) la disminución de accidentes de tránsito.
- B) el establecimiento de escuelas de manejo.
- C) la disminución del personal de policía de tránsito.
- D) el aumento de los salarios de los oficiales de tránsito.

37) Lea la siguiente información:

- Buscar medios de transporte alternativos.
- Analizar los hábitos de transporte de la sociedad.
- Estudiar las necesidades reales y de criterios que se pueden aplicar con el transporte a los centros de trabajo o de estudio.

En Costa Rica, la información anterior hace referencia a prácticas para el uso responsable de

- A) la recaudación en los peajes.
- B) los medios de transporte privado.
- C) los medios de transporte vial en la comunidad.
- D) los organismos que regulan el transporte público.

38) Realice la siguiente asociación:

Conceptos		Definición
1. Vulnerabilidad	( )	Alta probabilidad de riesgo a causa de un conjunto de condiciones y procesos físicos, sociales, económicos y ambientales.
2. Mitigación	( )	Peligro latente representado por la ocurrencia de un fenómeno peligroso provocado por el ser humano.
3. Amenaza antrópica	( )	Aplicación de medidas para reducir el impacto negativo que provoca un acontecimiento de origen natural, humano o tecnológico.

¿Cuál es la relación correcta de la asociación anterior?

- A) 1, 2 y 3
- B) 1, 3 y 2
- C) 3, 1 y 2
- D) 3, 2 y 1

39) Lea el siguiente texto:

Es el proceso mediante el cual se revierten las condiciones de vulnerabilidad de la población, los asentamientos humanos, la infraestructura, las actividades productivas de bienes y servicios y el ambiente.

*Adaptado de Formación Ciudadana Térraba, MEP-ICER, 2010.*

El texto anterior hace referencia al concepto de

- A) mitigación.
- B) rehabilitación.
- C) gestión del riesgo.
- D) organización ciudadana.

40) El territorio costarricense, está expuesto a la afectación de fenómenos naturales por su posición hemisférica y a características diferenciadas en cada una de sus regiones. Para enfrentar de manera efectiva dichos eventos es necesario

- A) organizar comités institucionales y comunales para la gestión del riesgo.
- B) establecer los centros de población fuera de la Gran Área Metropolitana.
- C) prescindir de los servicios de los cuerpos de rescate y asumir la atención de las emergencias locales de forma individual.
- D) trabajar por separado con la Comisión Nacional de Emergencias, la planificación comunal e institucional de la gestión del riesgo.

41) Lea el siguiente texto:

Este tipo de evento se produce cuando el suelo está cubierto por el agua, cuyos niveles sobrepasan lo normal, los ríos no son suficientes para el transporte de la lluvia que cae en la zona.

El texto anterior hace referencia al concepto de

- A) sequía.
- B) erupción.
- C) avalancha.
- D) inundación.

42) Lea el nombre de los siguientes eventos:

1. Maremotos
2. Derrumbes
3. Avalanchas
4. Erupciones volcánicas

¿Con cuáles números de los anteriores se identifican dos eventos de tipo topográfico?

- A) 1 y 2
- B) 1 y 4
- C) 2 y 3
- D) 3 y 4

43) Lea el siguiente texto:

Se define como la existencia de agentes químicos, sustancias o elementos tóxicos, físicos o biológicos, o combinaciones de ellos en un ambiente acuático, atmosférico o en el suelo.

*Adaptado de Cívica 7°, Un enfoque práctico, Didáctica Multimedia*

El texto anterior hace referencia al término de desastre antrópico denominado

- A) erosión.
- B) explosión.
- C) carbonización.
- D) contaminación.

44) Lea las siguientes medidas de mitigación:

- Desconectar la electricidad.
- Buscar lugares abiertos si se está cerca de edificios.
- Alejarse de los vidrios y acercarse a una columna durante el evento.

Las medidas de mitigación anteriores, son acciones de prevención ante un fenómeno de tipo

- A) meteorológico.
- B) topográfico.
- C) tectónico.
- D) antrópico.

45) Lea el siguiente texto:

Una comunidad en Costa Rica, es advertida del peligro latente que vive día a día por el desbordamiento de un río muy cercano a las viviendas. Los posibles daños pueden involucrar vidas humanas y pérdidas materiales como casas, escuelas, servicios públicos y zonas de cultivo.

*Adaptado de Formación Ciudadana Térraba, MEP-ICER, 2010*

El texto anterior hace referencia al concepto de

- A) inmunidad.
- B) fenómeno.
- C) amenaza.
- D) desastre.

46) Lea la siguiente información:

«La presente Ley regulará las acciones ordinarias (...) para reducir las causas de las pérdidas de vidas y las consecuencias sociales, económicas y ambientales, inducidas por los factores de riesgo de origen natural y antrópico; así como la actividad extraordinaria que el Estado deberá efectuar en caso de estado de emergencia, para lo cual se aplicará un régimen de excepción».

*Artículo 2°, Ley 8488*

En Costa Rica, el texto anterior hace referencia a la Ley

- A) Orgánica del Ministerio de Planificación.
- B) Nacional del Servicio de Emergencia 911.
- C) Orgánica de la Comisión Nacional de Emergencia.
- D) Nacional de Atención de Emergencias y Prevención de Riesgos.

47) Lea los siguientes objetivos:

1. Integrar esfuerzos de todas las instituciones para que unidas participen en la prevención de los efectos de los eventos naturales y antropogénicos.
2. Minimizar las pérdidas materiales y humanas que ocasionan los eventos de origen natural y antropogénicos.
3. Permitir que las municipalidades organicen en forma independiente las actividades ante un desastre.
4. Impedir que la sociedad civil intervenga en los planes de gestión de riesgo.

¿Con cuáles números de los anteriores se identifican dos objetivos de la Ley de Atención de Emergencias y Prevención de Riesgos?

- A) 1 y 2
- B) 1 y 3
- C) 2 y 4
- D) 3 y 4

48) En Costa Rica, el plan institucional para la prevención de riesgo se caracteriza entre otros aspectos, por

- A) enfrentar solamente los riesgos de tipo antrópicos.
- B) contar con un mapa geográfico de cada uno de los cantones.
- C) detallar las acciones durante un desastre natural a largo plazo.
- D) comunicar a las personas mediante reuniones, informes y materiales impresos, las medidas a seguir.



49) Lea las siguientes funciones:

1. Realizar investigaciones científicas y técnicas anticipadas.
2. Evaluar la magnitud de los daños ocurridos y presentar un informe.
3. Elaborar estrategias en educación, capacitación y organización dirigidas a la población.
4. Autorizar la ejecución de obras por parte de otras entidades en las zonas afectadas.

¿Con cuáles números de los anteriores se identifican dos funciones preventivas que realiza la Comisión Nacional de Prevención de Emergencias en Costa Rica?

- A) 1 y 2
- B) 1 y 3
- C) 2 y 4
- D) 3 y 4

50) Lea la siguiente información:

1. Deforestación
2. Contaminación de los ríos
3. Práctica de agricultura orgánica
4. Lanzamiento de cenizas volcánicas

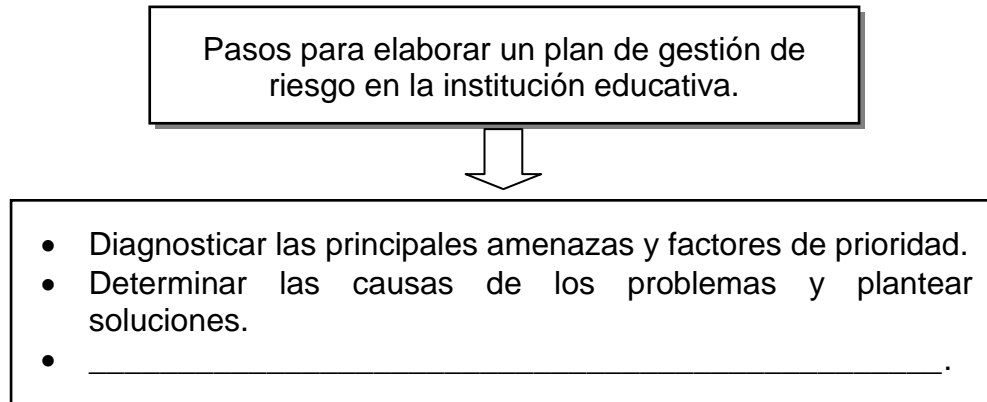
De acuerdo con la información anterior, ¿cuáles son dos amenazas de tipo antropogénico para una comunidad?

- A) 1 y 2
- B) 1 y 3
- C) 2 y 4
- D) 3 y 4

51) Costa Rica, por ubicarse en la parte oeste del continente americano, forma parte de un conjunto de sistemas montañosos conocidos como Cinturón de Fuego del Pacífico, lo cual expone a las diferentes comunidades del país a eventos de tipo tectónico, por ejemplo

- A) derrumbes y tornados.
- B) terremotos y tormentas.
- C) avalanchas y vulcanismo.
- D) sismos y erupciones volcánicas.

52) Lea el siguiente esquema:



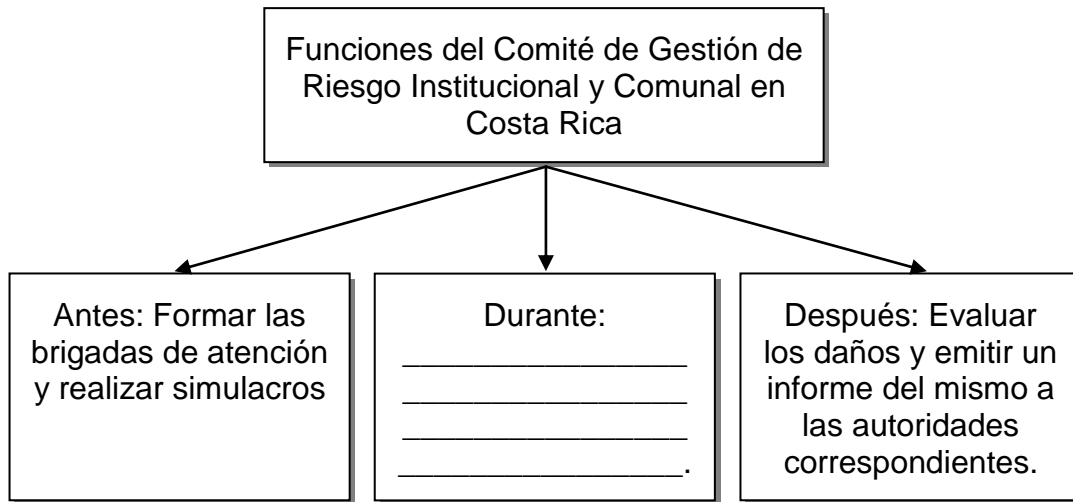
¿Con cuál opción se completa correctamente el esquema anterior?

- A) Revisar y ajustar el plan
- B) Coordinar por separado el trabajo de docentes y alumnos
- C) Desarrollar programas de salud y nutrición en la comunidad educativa
- D) Evitar la promulgación de las amenazas que pueden afectar la institución

53) Costa Rica es un país altamente sísmico, por su ubicación geográfica y por ser territorio de reciente formación. Por esta razón, una recomendación durante un evento telúrico para las instituciones educativas es

- A) salir de la institución y ubicarse cerca de los postes de alumbrado eléctrico como medida de protección.
- B) acercarse a ventanas o lugares de salida para observar lo que sucede durante el evento.
- C) utilizar el elevador si existiera para una mayor rapidez de evacuación.
- D) dirigirse al sector destinado como zona de seguridad.

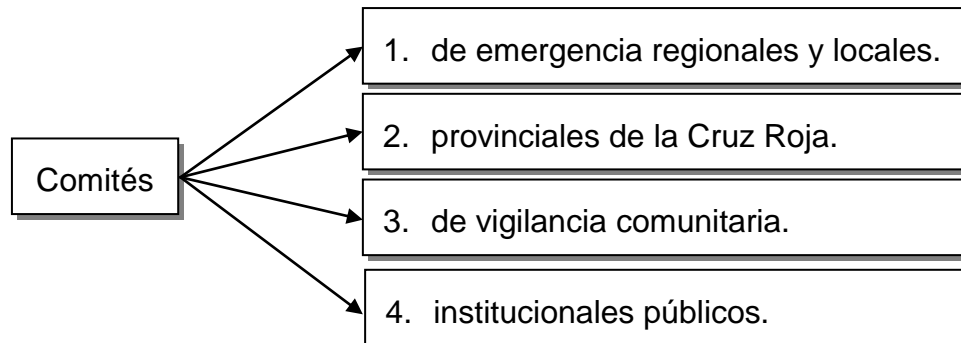
54) Lea el siguiente esquema:



¿Con cuál opción se completa correctamente el esquema anterior?

- A) Activar el plan de evacuación y respuesta en caso de emergencia
- B) Confeccionar el plan de atención de emergencias a nivel nacional
- C) Colaborar en la atención de las víctimas y la rehabilitación
- D) Elaborar un plan regulador en la zona del evento

55) Lea la siguiente información:



De acuerdo con la información anterior, ¿con cuáles números se identifican dos tipos de comités que forman parte de la organización del Comité institucional y Comunal de Gestión de Riesgo?

- A) 1 y 2
- B) 1 y 4
- C) 2 y 3
- D) 3 y 4