

SELECCIÓN ÚNICA

55 ÍTEMS

1) Observe la siguiente representación de la Tierra:



De acuerdo con la imagen anterior el límite este del continente americano lo constituye el océano

- A) Pacífico.
  - B) Atlántico.
  - C) Glacial Ártico.
  - D) Glacial Antártico.
- 2) Una característica física de América Latina consiste en que
- A) prevalece el clima de tundra con cuatro estaciones bien definidas.
  - B) existen selvas tropicales con diversidad de especies.
  - C) algunos de sus territorios limitan con el Polo Norte.
  - D) la actividad sísmica es inexistente.

3) Lea el siguiente texto:

El llamado Cinturón de Fuego del Pacífico comprende los territorios considerados como los de mayor actividad sísmica del planeta, debido en parte al gran número de volcanes activos.

*Adaptado de Estudios Sociales, Ujarrás, MEP-ICER*

De acuerdo con el texto anterior, ¿cuál formación geográfica del continente americano forma parte del Cinturón de Fuego del Pacífico?

- A) Escudo Canadiense
- B) Cordillera de los Andes
- C) Cuenca del río Mississippi
- D) Llanura Chaco Pampeana

4) Lea las siguientes características:

1. El meridiano de Greenwich lo divide en dos partes iguales
2. Presenta las mayores elevaciones del planeta.
3. Es el de mayor extensión latitudinal.
4. Se ubica en el hemisferio Oriental.

¿Cuál número de los anteriores identifica una característica del continente americano?

- A) 1
- B) 2
- C) 3
- D) 4

5) Lea la siguiente información:

- Los bosques que predominan son los de coníferas como pinos y abetos propios de climas fríos.
- En las zonas de clima templado se da la primavera, el verano, el otoño y el invierno.
- Son explotados científicamente.

La información anterior hace referencia a características físicas que presenta América

- A) Central Istmica.
- B) Central Insular.
- C) Anglosajona.
- D) Latina.

6) Lea las siguientes características:

- Son tierras viejas.
- Se localizan en América del Norte.
- Las elevaciones más sobresalientes son los montes Laurentinos.
- Presenta sectores aplanados por el paso de la nieve y los glaciares.

El paisaje al que hacen referencia las características anteriores se denomina

- A) llanos del Orinoco
- B) escudo Canadiense
- C) montañas Rocallosas
- D) sierra Madre Occidental

7) Lea la siguiente información:

Llanura \_\_\_\_\_



Ocupa la selva más extensa del mundo. Su extensión alcanza los 6.000.000 de km<sup>2</sup> repartidos entre nueve países sudamericanos. Se desarrolla una vegetación tupida, exuberante y siempre verde. Existen en ella innumerables especies de plantas, aves, anfibios e insectos.

¿Cuál opción completa correctamente la información anterior?

- A) de la Patagonia
- B) del Amazonas
- C) de la Plata
- D) del Misisipi

8) Lea la siguiente información:

- Se extrae petróleo y gas natural.
- En esta región se cultivan cereales: sorgo, trigo, centeno y otros.
- El personaje típico de la región es el gaucho, dedicado a tareas agropecuarias.

La información anterior hace referencia a características de la tierra de relleno americana denominada

- A) la Pampa.
- B) llanos del Orinoco.
- C) llanuras del Caribe.
- D) llanura Central Norteamericana.

9) Lea las siguientes características:

1. Posee vegetación de tundra y taiga.

2. Este clima se divide en continental y marítimo.





3. Tiene excesiva evaporación y elevadas temperaturas.

4. Presenta abundantes lluvias o precipitaciones durante todo el año.

¿Cuáles números de los anteriores identifican dos características del clima ecuatorial?

- A) 1 y 2
- B) 1 y 3
- C) 2 y 4
- D) 3 y 4

10) Lea la siguiente información:

1. Cactus	2. Líquenes	3. Coníferas	4. Epífitas
			

¿Cuál número de los anteriores identifica una especie vegetal propia de los climas desérticos?

- A) 1
- B) 2
- C) 3
- D) 4

11) Lea la siguiente información:

- Sur de Estados Unidos de América
- Norte de México
- Norte de Chile

La información anterior hace referencia al nombre de regiones de América que poseen un clima de tipo

- A) seco.
- B) tórrido.
- C) templado.
- D) continental.

12) Lea los siguientes aspectos:

1. Formación de anillos de pobreza o tugurios.
2. Urbanización de tierras aptas para la agricultura.
3. Eliminación de los principales focos de contaminación ambiental.
4. Optimización de las necesidades básicas de todos los habitantes.

¿Cuáles números de los anteriores identifican dos aspectos provocados por el crecimiento desproporcionado de las ciudades en América?

- A) 1 y 2
- B) 1 y 4
- C) 2 y 3
- D) 3 y 4

- 13) ¿Cuál es una característica demográfica de la población en América?
- A) La distribución espacial es muy desigual.
  - B) Ausencia de migraciones entre los diferentes países.
  - C) Presenta baja concentración en el noreste de América del Norte.
  - D) Existe gran concentración en las partes más altas de las montañas.
- 14) En los territorios fríos del norte de Canadá, el sur de Chile y de Argentina la
- A) principal actividad minera es la de cobre y salitre.
  - B) actividad sísmica y volcánica están ausentes.
  - C) vegetación que predomina es la de sabana.
  - D) concentración de personas es muy baja.
- 15) Lea las siguientes características:

1. Carecen de problemas de inseguridad ciudadana.
2. Se localizan en las zonas más altas del continente.
3. Presentan serios problemas de contaminación ambiental.
4. En su mayoría se ubican cerca de las costas por el acceso a los puertos.

¿Cuáles números de los anteriores identifican dos características de las grandes ciudades latinoamericanas?

- A) 1 y 2
- B) 1 y 4
- C) 2 y 3
- D) 3 y 4

16) ¿Cuál es una característica de la población rural en América Latina?

- A) Posee limitadas posibilidades educativas, de salud y bienestar en general.
- B) Se dedica principalmente a actividades del sector secundario.
- C) Los habitantes poseen alto poder adquisitivo.
- D) La tasa de crecimiento es muy baja.

17) Lea la siguiente lista de lugares:

1. Noroeste de Estados Unidos de América

2. Buenos Aires, Argentina

3. Sao Pablo, Brasil

4. Sur de Canadá

¿Cuáles números de los anteriores identifican dos grandes centros de concentración de población en América Latina?

- A) 1 y 2
- B) 1 y 4
- C) 2 y 3
- D) 2 y 4



18) Lea la siguiente información:

- Entre un 20% y 30% de la población latinoamericana corresponde a este grupo de población.
- Cuenta con gran presencia en países como Brasil, Colombia, Venezuela, República Dominicana, Cuba y Panamá.
- Al venir a América trajeron frutos como la sandía, el ñame y varias especies de plátanos entre otros.

La información anterior contiene algunas características de la etnia

- A) afrodescendiente.
- B) indígena.
- C) mestiza.
- D) asiática.

19) ¿Cuál es una característica ambiental del proceso de industrialización en América Latina?

- A) Los recursos existentes satisfacen las necesidades de la población.
- B) Conforme aumentan las industrias es mayor la contaminación del medio.
- C) Explotación controlada de los recursos naturales como el agua y los bosques.
- D) El crecimiento industrial hace que sea menor la concentración de la población urbana.

20) Lea el siguiente texto:

En un estudio realizado en el 2005 por la Organización de las Naciones Unidas, Canadá ocupó el primer puesto en la producción de papel periódico. En la producción de maderas coníferas y en producción de pasta de papel obtuvo el segundo lugar en el mundo.

*Adaptado de <https://www.absolutviajes.com/canada>*

El texto anterior describe una actividad económica del sector

- A) acuicultura.
- B) horticultura.
- C) apicultura.
- D) forestal.

21) Lea la siguiente información:

América \_\_\_\_\_



Las zonas industriales se localizan en las principales concentraciones de población, así los grandes centros industriales se ubican en la zona de los Grandes Lagos, entre Canadá y Estados Unidos de América, la costa Pacífica y el Sur de Estados Unidos de América.

¿Cuál opción completa correctamente la información anterior?

- A) Latina
- B) Anglosajona
- C) Central insular
- D) Central ístmica

22) Lea las siguientes características:

1. Poseen un alto nivel de industrialización.
2. Brasil y México son los países que concentran la mayor producción de automóviles.
3. Cuenta con gran cantidad y diversidad de materias primas que son explotadas por las grandes potencias.
4. Se aplican políticas de apoyo a la investigación, al desarrollo de infraestructuras y a la innovación tecnológica.

¿Cuáles números de los anteriores identifican dos características de la industria latinoamericana?

- A) 1 y 2
- B) 1 y 4
- C) 2 y 3
- D) 3 y 4

23) Lea la siguiente información:

- Explotaciones agrícolas extensivas: son aquellos sistemas dedicados a la agricultura en extensas propiedades como las estancias en Argentina, las fazendas en Brasil y las haciendas en Venezuela.
- Explotaciones agrícolas intensivas: son los sistemas dedicados a la agricultura en pequeñas propiedades.
- Las plantaciones: se basan en el cultivo de un solo producto. Se desarrollan en países de zonas tropicales, Cuba, Colombia, países de América Central y producen café, cacao y caña de azúcar entre otros.

La información anterior identifica características del sector de la economía latinoamericana

- A) primario.
- B) terciario.
- C) secundario.
- D) de bienes y servicios.

- 24) ¿Cuál es una característica del efecto invernadero en el planeta?
- A) Impide la utilización de la energía solar.
  - B) Evita que la temperatura de la Tierra disminuya.
  - C) Descarta la producción de gases tóxicos en la Tierra.
  - D) Origina barreras naturales que eliminan la contaminación de los océanos.
- 25) El continente americano se ve afectado por huracanes que se originan en los
- A) terrenos llanos afectados por la deforestación.
  - B) territorios donde los ríos son caudalosos.
  - C) mares con temperaturas altas.
  - D) sistemas montañosos.
- 26) ¿Cuál es un evento de tipo antrópico?
- A) Sequías
  - B) Tsunamis
  - C) Terremotos
  - D) Caza indiscriminada

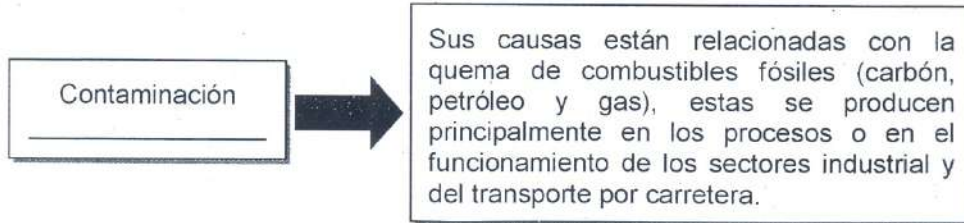
27) Lea la siguiente información:

- Acelera la desaparición de áreas que absorben el CO<sub>2</sub> de la atmósfera y renuevan el aire a largo plazo.
- Propicia la erosión de los suelos y la aparición de incendios.
- Provoca la extinción de especies de plantas y animales.

La información anterior hace referencia a consecuencias provocadas por

- A) las sequías.
- B) los terremotos.
- C) las tormentas eléctricas.
- D) los derrames de petróleo.

28) Lea la siguiente información:




¿Cuál opción completa correctamente la información anterior?

- A) electromagnética
- B) atmosférica
- C) radiactiva
- D) hídrica

29) Lea la siguiente información:

Desastre natural \_\_\_\_\_

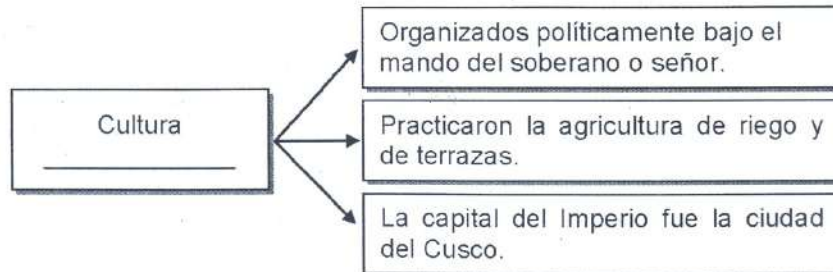


- Se inicia por alteraciones de una pendiente.
- Sucede cuando grandes cantidades de rocas, tierra o detritos (masa sólida descompuesta) bajan por una ladera.
- Se calcula que solo en Estados Unidos de América provoca entre 25 a 50 muertes por año.

¿Cuál opción completa correctamente la información anterior?

- A) tsunami
- B) inundación
- C) deslizamiento
- D) flujo piro clástico

30) Lea el siguiente esquema:



¿Cuál opción completa correctamente el esquema anterior?

- A) Inca
- B) Azteca
- C) Tolteca
- D) Chibcha

31) Lea el siguiente texto:

El recinto arqueológico ocupa 15 km<sup>2</sup>, es Patrimonio de la Humanidad desde 1998 y constituye uno de los testimonios mejor preservados de esta civilización mesoamericana. El estudio de los grabados y la disposición de los edificios ha revelado que sus habitantes conocían el ciclo de Venus de 584 días y el hecho de que cada 8 años retornase a la misma posición en el cielo, lo que se reflejaba a la vez en su calendario. El edificio que los españoles llamaron el Caracol era un observatorio astronómico.

*Adaptado de <http://www.nationalgeographic.com.es/viajes/>*

En el texto anterior se identifican características de la civilización antigua de América denominada

- A) Inca.
- B) Maya.
- C) Azteca.
- D) Zapoteca.

32) Lea los siguientes aspectos:

1. Fue propuesta por Charles Darwin.
2. Argumentaba que el ser humano americano provenía de la isla de Groenlandia.
3. Establecía que los primeros habitantes del planeta se originaron en la Pampa Argentina.
4. Se fundamentaba en la similitud de los habitantes del norte de Europa con los habitantes de América del Sur.

¿Cuál número de los anteriores identifica un aspecto relacionado con la teoría autoctonista del poblamiento del continente americano?

- A) 1
- B) 2
- C) 3
- D) 4

33) Lea las siguientes características:

- |   |
|---|
| 1. La ruta más segura para la llegada del hombre a América fue el estrecho de Bering. |
| 2. Cuando América comenzó a poblarse, en Europa y África no existían humanos.         |
| 3. En América predominó el poblador de origen mongol (asiático).                      |
| 4. El origen del ser humano es propio de América.                                     |

¿Con cuáles números de los anteriores se identifican dos características relacionadas con el origen del ser humano americano?

- A) 1 y 2
- B) 1 y 3
- C) 2 y 4
- D) 3 y 4

34) ¿Cuál fue una característica del modo de vida de los primeros pobladores de América?

- A) Se desplazaban de un lugar a otro en busca de alimentos.
- B) Su principal actividad económica fue la ganadería.
- C) Desarrollaron una compleja escritura jeroglífica.
- D) Intercambiaban artesanías.

35) El área cultural que se extendía desde el centro de México hacia el sur y parte de Centroamérica, hasta la península de Nicoya en Costa Rica se denomina

- A) Mesoamérica.
- B) Intermedia.
- C) Marginal.
- D) Andina



38) Lea la siguiente información:

- |   |
|---|
| 1. Recaudar el diezmo.                      |
| 2. Convertir los nativos al cristianismo.   |
| 3. Luchar contra los protestantes.          |
| 4. Enseñar el idioma latín a los indígenas. |

¿Cuáles números de los anteriores identifican dos funciones de la Iglesia católica durante la colonia en América?

- A) 1 y 2
- B) 1 y 4
- C) 2 y 3
- D) 3 y 4

39) La colonización inglesa se diferenció de la colonización española porque la primera careció de

- A) fuerza.
- B) violencia.
- C) ideología.
- D) mestizaje.

40) Lea la siguiente información:

1. Los españoles adoptaron la dieta de los indígenas.
2. Sobreexplotación de los recursos naturales americanos.
3. Mejoramiento de las condiciones de salud de los habitantes autóctonos.
4. Exterminio de las poblaciones indígenas y sus manifestaciones culturales ancestrales.

¿Con cuáles números de los anteriores se identifican dos consecuencias provocadas por la colonización española en América?

- A) 1 y 3
- B) 1 y 4
- C) 2 y 3
- D) 2 y 4

41) Lea la siguiente información:



- Inicialmente la conquista fue dirigida por los reyes católicos.
- Los soberanos lograron un dominio absoluto sobre las colonias a través de las instituciones creadas para dicho fin.
- Fundaron virreinos, capitanías generales y gobernaciones entre otras.

¿Cuál opción completa correctamente la información anterior?

- A) inglesa
- B) francesa
- C) española
- D) portuguesa

- 42) Una característica de la relación comercial entre España y sus territorios de ultramar durante la época de la colonia fue
- A) la eliminación de los mercados regionales.
  - B) el exterminio del contrabando con las colonias.
  - C) el establecimiento de un monopolio comercial en las colonias.
  - D) la apertura de mercados en beneficio de las colonias americanas.

- 43) Lea la siguiente información:

Casa de Contratación de Sevilla
<ul style="list-style-type: none"><li>• Controlar la importación de metales preciosos.</li><li>• Fiscalizar el comercio entre España y el Nuevo Mundo.</li><li>• Evitar que todas las ganancias fueran acumuladas por los españoles.</li><li>• _____</li></ul>

¿Cuál opción completa correctamente la información anterior?

- A) Regular el comercio con Inglaterra, Francia y Portugal
- B) Administrar las riquezas de las misiones y conventos
- C) Cobrar los impuestos a los indígenas y esclavos
- D) Impedir el contrabando y la piratería

- 44) Lea el siguiente texto:

La cantidad de metales preciosos como el oro y la plata, acumulados por un país, determinan la riqueza de este. Dichos metales podrían estar en suelo nacional o los podían extraer de otras tierras. Entre más oro y plata acumulara un país, más rico y poderoso sería.

*Adaptado de Estudios Sociales, Ujarrás, MEP-ICER*

En el texto anterior se identifica una característica de Europa Occidental en los siglos XVI y XVII, relacionada con

- A) el auge renacentista.
- B) el desarrollo de la doctrina mercantilista.
- C) la apertura de rutas comerciales con Oriente.
- D) el establecimiento de los monopolios comerciales

45) Lea el siguiente texto:

Fue un tipo de esclavitud disfrazada, ya que los indígenas fueron obligados a realizar trabajos pesados en las minas con extenuantes horarios laborales; lo que provocó la muerte de miles de ellos.

Adaptado de Estudios Sociales, Ujarrás, MEP-ICER

El texto anterior identifica al tipo de mano de obra colonial, denominada

- A) mita.
- B) tributo.
- C) peonaje.
- D) encomienda.

46) Lea las siguientes características:

1. Se especializó en cultivos de exportación como el café y el banano.

2. Su principal actividad económica fue la ganadería.

3. Contratava solo mano de obra libre.

4. Dio origen al minifundio.

¿Cuál número de los anteriores identifica una característica de la hacienda colonial hispanoamericana?

- A) 1
- B) 2
- C) 3
- D) 4

- 47) La Capitanía General de Guatemala, una vez disuelta, dio origen entre otros, al país denominado
- A) Chile.
  - B) Cuba.
  - C) Panamá.
  - D) Costa Rica.
- 48) El movimiento de la Ilustración del siglo XVIII pretendía en el ámbito social, eliminar
- A) la libertad de comercio.
  - B) el pensamiento político y reformista.
  - C) los privilegios del clero y la nobleza.
  - D) la influencia del Estado en la educación.
- 49) ¿Cuál fue una consecuencia de la influencia europea en la sociedad latinoamericana?
- A) Supremacía de la religión católica.
  - B) Implementación de los dialectos regionales castellanos.
  - C) Aumento de las migraciones de población autóctona hacia España.
  - D) Fortalecimiento de las prácticas culturales de los migrantes asiáticos y africanos.

50) Lea la siguiente información:

1. Invasión de Napoleón Bonaparte a España.
2. Reformas establecidas por la dinastía de los Borbones.
3. Participación de Florencio del Castillo en las Cortes de Cádiz.
4. Disconformidad en las colonias por la imposición del monopolio comercial.

¿Cuál número de los anteriores identifica una causa económica de la independencia hispanoamericana?

- A) 1
- B) 2
- C) 3
- D) 4

51) Los criollos lucharon por alcanzar la independencia de las colonias hispanoamericanas, con la finalidad de

- A) tener acceso al poder político.
- B) monopolizar las actividades comerciales.
- C) ser considerados ciudadanos españoles.
- D) poseer los principales centros de explotación minera.

52) Lea la siguiente información:

Este hecho histórico ocurrido en 1789 logró la igualdad de los hombres ante la ley, la abolición de la esclavitud en las colonias y la declaración de los Derechos del Hombre y del Ciudadano, entre otros.

¿A cuál causa externa de la independencia de las colonias hispanoamericanas corresponde la información anterior?

- A) Independencia de las Trece Colonias.
- B) Liberalismo económico.
- C) Revolución francesa.
- D) Renacimiento.

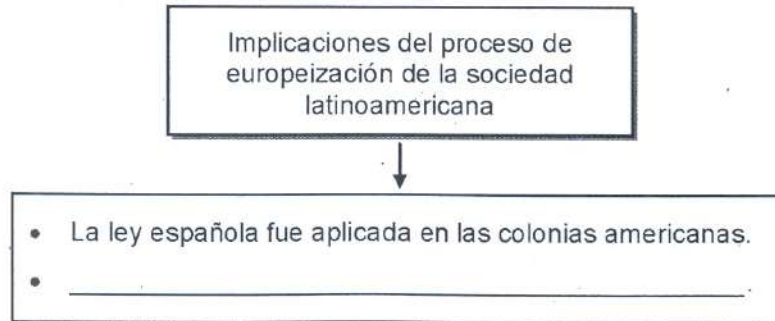
53) Lea las siguientes consecuencias:

1. Surgimiento del caudillismo.
2. Afianzamiento de la monarquía española.
3. Creación de leyes para proteger a los esclavos.
4. Establecimiento de regímenes parlamentarios unicamerales.

¿Cuál número de los anteriores identifica una consecuencia política de los procesos de independencia hispanoamericana?

- A) 1
- B) 2
- C) 3
- D) 4

54) Lea el siguiente esquema:



¿Cuál opción completa correctamente el esquema anterior?

- A) El aborigen fue considerado un ser inferior a los europeos
- B) Los dioses y ritos indígenas fueron respetados por los peninsulares
- C) La corona española preservó las lenguas autóctonas de los indígenas
- D) Los modos de vida de los indígenas no sufrieron ningún tipo de alteración