

SELECCIÓN ÚNICA

55 ÍTEMS

1) Lea la siguiente información:

1. Grupo social de un país conformado, exclusivamente, por las personas mayores de edad.
2. Sector poblacional de un país cuyos miembros se consideran como prioritarios en el campo laboral.
3. Comunidad humana que comparte el origen étnico, el idioma, la historia y las tradiciones.
4. Conjunto de libertades básicas que tiene toda persona por su naturaleza y condición humana.

El concepto de nación se identifica con el número

- A) 1
- B) 2
- C) 3
- D) 4

2) Lea el siguiente texto:

«Una sociedad jurídicamente organizada, con un territorio, una población un orden jurídico y un gobierno determinado».

Programas de Educación Cívica MEP 2009, p. 50

El texto anterior hace referencia al concepto de

- A) nación.
- B) Estado.
- C) mandato.
- D) ciudadanía.

3) Lea el siguiente texto:

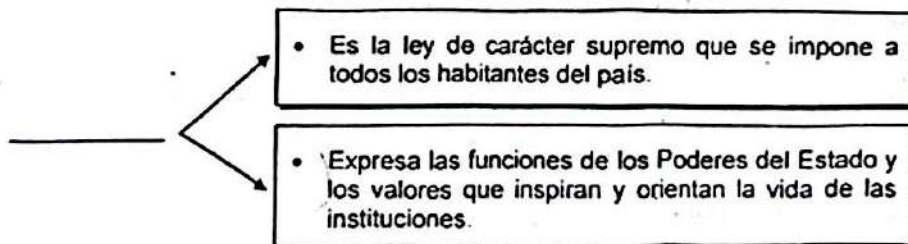
«[...] comprende las instituciones autorizadas para formular y ejecutar las políticas públicas».

Programas de Educación Cívica MEP 2009, p. 51

El texto anterior hace referencia al concepto de

- A) sistema político.
- B) república.
- C) soberanía.
- D) gobierno.

4) Lea el siguiente esquema:



¿Con cuál opción se completa correctamente el esquema anterior?

- A) Constitución Política
- B) Reglamento
- C) Estatuto
- D) Código

5) ¿Cuál es una prohibición para los extranjeros que viven en Costa Rica?

- A) Ejercer todo tipo de cargos públicos.
- B) Intervenir en los asuntos políticos del país
- C) Recibir educación en las instituciones estatales
- D) Gozar de la asistencia a la seguridad social y salud

6) Lea la siguiente información:

1	2	3	4
			
Saber quiénes son sus padres.	Respetar la diversidad de pensamiento, religión y cultura.	Participar activamente en la creación de partidos políticos.	Cumplir con sus obligaciones educativas.

Dos deberes de las personas menores de 18 años en Costa Rica establecidos en el artículo 11° del Código de la Niñez y la Adolescencia, se identifican en la información anterior con los números

- A) 1 y 3
- B) 1 y 4
- C) 2 y 3
- D) 2 y 4

7) ¿Cuál es una medida, dentro del marco legal de Costa Rica, para la inseguridad ciudadana?

- A) Represión violenta de toda conducta antisocial.
- B) Establecimiento de la pena de muerte en delitos contra la propiedad.
- C) Justicia basada en largas condenas de cárcel de acuerdo con la situación social.
- D) Solución integral en la distribución de la riqueza fundamentada en la educación y la equidad

8) Lea las siguientes medidas:

1. Creación de comités locales para el fomento de una cultura de paz urbana.
2. Aumento del presupuesto de los Juzgados Contenciosos Administrativos.
3. Capacitación oportuna y utilización del equipo adecuado para los cuerpos de seguridad oficiales del país.
4. Eficacia en las intervenciones que realizan las autoridades de seguridad pública.

¿Cuáles números de los anteriores identifican dos medidas de tipo policial para enfrentar la violencia urbana y la inseguridad ciudadana?

- A) 1 y 2
- B) 1 y 3
- C) 2 y 3
- D) 3 y 4

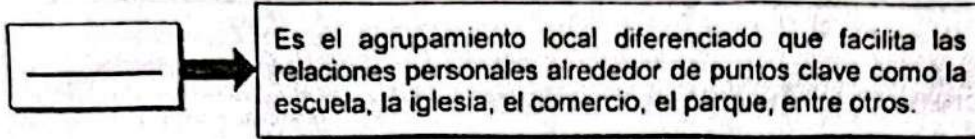
9) Lea la siguiente información:

		
Es una conducta o acción que va en contra de lo establecido por la ley.		

La información anterior se refiere al concepto de

- A) delito.
- B) prejuicio.
- C) accidente.
- D) estereotipo.

10) Lea el siguiente esquema:



- ¿Cuál opción completa correctamente el esquema anterior?
- A) Urbanización
 - B) Provincia
 - C) Barrio
 - D) País
- 11) ¿Cuál es una medida que desarrolla el Estado costarricense para contrarrestar la intolerancia, el enfrentamiento y la violencia?
- A) Propiciar actitudes y valores que favorecen las conductas de riesgo.
 - B) Aumentar la vulnerabilidad social de los grupos más desfavorecidos.
 - C) Fomentar acciones colectivas que promuevan la seguridad ciudadana.
 - D) Elevar los niveles de desconfianza de los ciudadanos hacia las instituciones públicas.
- 12) ¿Cuál es el impacto de los medios de comunicación colectiva sobre la percepción de la seguridad ciudadana en Costa Rica?
- A) Aumentar sus ganancias aunque la información sea manipulada.
 - B) Abstenerse de publicar aquellos temas que atemoricen a la población.
 - C) Procurar que se canalicen la información aportando conocimientos y soluciones al tema.
 - D) Referirse a todos los delitos que suceden durante el día para tener bien informada a la población.

13) Lea el siguiente texto:

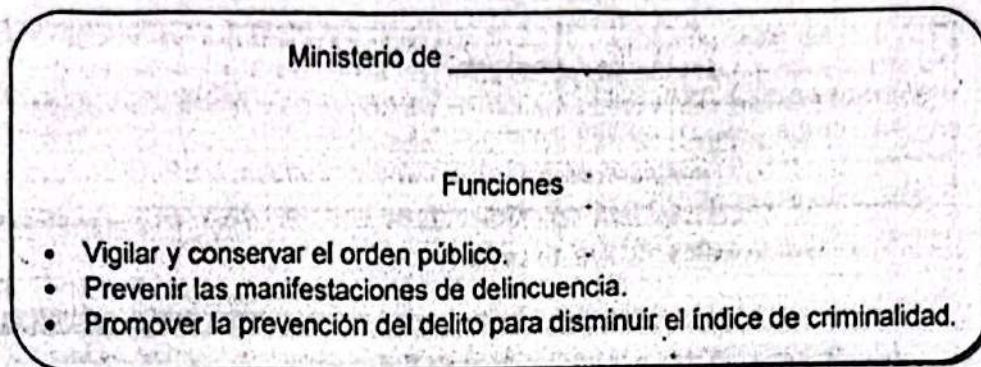
Las noticias sobre crímenes y otros delitos son transmitidas por los medios de comunicación para la población en general. Se utiliza la espectacularidad para llamar la atención y así aumentar las ventas.

Adaptado de Educación Cívica, Térraba, MEP-ICER 2010

Según el texto anterior los medios de comunicación

- A) están en la obligación de abstenerse a dar soluciones sobre el tema de seguridad.
 - B) presentan las noticias a la población para dar la sensación de más inseguridad.
 - C) deben presentar las noticias de acuerdo con sus necesidades económicas.
 - D) inducen a los ciudadanos a defenderse por sí mismos.
- 14) La convivencia armoniosa en la sociedad costarricense se ve favorecida por normas legales, como,
- A) resolver todos los problemas por la fuerza.
 - B) aplicar sanciones rigurosas a los antisociales.
 - C) establecer leyes severas a todos los delincuentes.
 - D) usar canales de comunicación adecuada y sin violencia.

15) Lea el siguiente esquema:



¿Cuál opción completa correctamente el esquema anterior?

- A) Justicia y Paz
- B) la Presidencia
- C) Seguridad Pública
- D) Planificación y Política Económica

16) Las leyes de Costa Rica establecen normas de convivencia en sociedad que favorecen el respeto mutuo, la tolerancia y el ejercicio efectivo de los derechos y los deberes. Estos principios se fomentan en el artículo 7.º de la Ley de Justicia Penal Juvenil al promover en las personas menores de edad

- A) el cumplimiento de sus obligaciones laborales.
- B) la reinserción en su familia y la sociedad. ✓
- C) la protección del medio ambiente.
- D) el derecho a la vida.

17) Lea la siguiente información:

1. Actúan con total independencia para juzgar a los delincuentes. ✓
2. La municipalidad deja en manos de este comité la seguridad de un distrito.
3. Se organizan para mejorar la calidad de vida en sus respectivas comunidades. ✓
4. Está formado por líderes de la comunidad, asociaciones voluntarias y el sector privado. ✓

¿Cuáles números de los anteriores identifican dos características de los comités de vecinos organizados para la seguridad ciudadana?

- A) 1 y 2
- B) 1 y 4
- C) 2 y 3
- D) 3 y 4

18) Los comités de vecinos en Costa Rica son grupos de personas que reciben asesoría en seguridad comunitaria y en materia de prevención. El primer paso para conformar estos comités consiste en

- A) elaborar un diagnóstico de la comunidad para conocer en términos generales su problemática para orientar el proceso de capacitación.
- B) conformar comisiones de trabajo para la implementación de proyectos comunales.
- C) evaluar el grado de cumplimiento del plan de acción y seguimiento comunal.
- D) elaborar un plan de acción y seguimiento comunal.

19) Lea las siguientes funciones:

1. Profesionalizar y modernizar la educación policial.
2. Vigilar la acción policial realizada por el Estado.
3. Organizar las actividades de patrullaje de las organizaciones policiales.
4. Proveer información a la policía sobre las necesidades ciudadanas y las percepciones sobre la criminalidad.

En materia de seguridad ciudadana, ¿cuáles son dos funciones de las organizaciones de la sociedad civil en Costa Rica?

- A) 1 y 3
- B) 1 y 4
- C) 2 y 3
- D) 2 y 4

20) Lea la siguiente información:

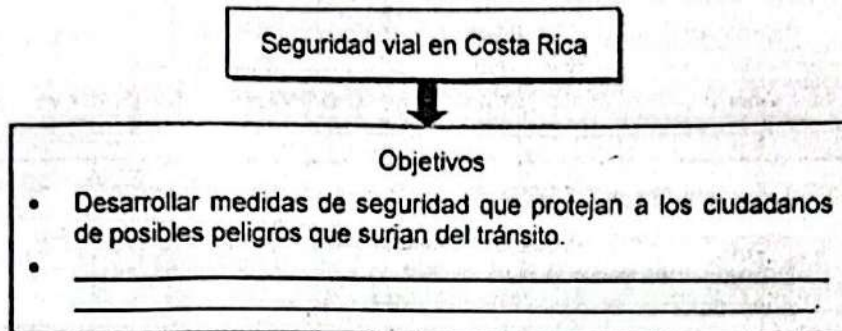
«La juventud forma parte importante de la población del cantón, pues se considera la población más vulnerable a ser víctima de violencia e igualmente son los principales victimarios, afectando no solo a estos por sus decisiones, sino también a las familias que representan y a la comunidad en general».

[www.municipalmes.go.cr/Plan local.](http://www.municipalmes.go.cr/Plan%20local)

De acuerdo con la información anterior, la seguridad ciudadana de la persona joven debe considerarse como una prioridad ya que

- A) no existe otro sector de la población en la actualidad que asuma las funciones que esta puede desempeñar.
- B) para este sector de la población se debe procurar un desarrollo integral y el pleno ejercicio de su ciudadanía.
- C) los sectores empresariales del país contratan, en un cien por ciento, mano de obra «joven» para abaratar costos.
- D) son los que, en un determinado plazo, tendrán las soluciones a todas las futuras necesidades socioeconómicas de la sociedad.

21) Lea el siguiente esquema:



¿Cuál opción completa correctamente el esquema anterior?

- A) Educar desde los primeros años de escolaridad para evitar accidentes de tránsito.
- B) Construir vías de comunicación que permitan conducir de forma temeraria y
- C) Crear conciencia y responsabilidad exclusivamente en la población joven
- D) Fomentar en los peatones actitudes adversas a las leyes de tránsito

22) Al proceso de socialización y aprendizaje que tiene el propósito de desarrollar conocimientos y destrezas ciudadanas para el uso de las vías públicas, prevenir los accidentes de tránsito o la minimización de sus efectos, se le denomina

- A) seguridad social.
- B) educación vial.
- C) actividad vial.
- D) sistema vial.

23) Lea la siguiente información:

- Indicador que guía al peatón y al conductor sobre la ruta que va a transitar: calles, caminos y aceras.
- Su diseño garantiza la interpretación de mensajes a las personas con diferentes idiomas.

La información anterior se refiere al concepto de

- A) señal de tránsito.
- B) sistema vial.
- C) tráfico.
- D) vía.

24) Lea la siguiente definición:

Son todas las políticas, estrategias, normas, procedimientos y actividades en materia de ingeniería de tránsito, policía de tránsito, educación y promoción de la educación vial que en forma integral se formulan y ejecuten.

La definición anterior hace referencia al concepto de

- A) seguridad vial.
- B) socialización vial.
- C) manejo preventivo.
- D) responsabilidad vial.

25) ¿Cuál es un objetivo de la seguridad vial en Costa Rica?

- A) Aumentar el número de infracciones por motivos económicos. ✗
- B) Eliminar las restricciones y disposiciones legales para la circulación de vehículos. †
- C) Explicar el peligro por irrespetar las recomendaciones de las normas de seguridad.
- D) Disminuir el número de concesionarios de servicio de transporte público de personas.

26) Lea la siguiente información:

- Creada en 1979 como una dependencia del Ministerio de Obras Públicas y Transportes.
- Su misión es la implementación de acciones que ayuden a mejorar el comportamiento de los usuarios del sistema de tránsito y la calidad de vida de los costarricenses.

La información anterior se refiere a la institución rectora en materia de seguridad vial en Costa Rica denominada

- A) Consejo de Seguridad Vial.
- B) Revisión Técnica Vehicular.
- C) Consejo de Transporte Público.
- D) Laboratorio Nacional de Materiales y Modelos Estructurales.

27) Lea la siguiente información:

- Saber leer y escribir.
- Ser mayor de 17 años y tener aprobado el curso de seguridad vial.
- Presentar un examen médico realizado por un profesional autorizado.
- Suscribir una póliza de seguros que incluya lesiones, muerte, accidente y daños a terceros.

Los requisitos anteriores son necesarios para que las personas puedan obtener

- A) la licencia de aprendiz de conductor de bicicleta en las vías públicas.
- B) el carné permanente para conducir un vehículo automotor.
- C) el permiso temporal de aprendiz de conductor.
- D) la autorización para conducir motocicletas.

28) Lea las siguientes disposiciones:

1. Circular por el lado derecho del carril de la vía.
2. No aprender a conducir bicicletas en las vías públicas.
3. Cuando circulen un grupo de bicicletas lo hará una junto a la otra en todos los casos.
4. Las personas menores de 15 años de edad pueden conducir patinetas o triciclos por las vías públicas.

De acuerdo con el artículo 105° de la Ley de Tránsito 7331 de Costa Rica, ¿cuáles son dos deberes de los ciclistas que transitan en la vía pública?

- A) 1 y 2
- B) 1 y 3
- C) 2 y 4
- D) 3 y 4

29) Observe la siguiente información:



¿A cuál tipo de señal de tránsito corresponde la información anterior?

- A) Horizontal
- B) De prevención
- C) De información
- D) De reglamentación

30) ¿Cómo se les llama a las señales de tránsito que se pintan sobre la propia calzada o en el borde de la acera y el espaldón?

- A) Horizontales
- B) Reductoras
- C) Luminosas
- D) Verticales

31) ¿Cuál es la presentación en carretera de la mayoría de señales de tránsito verticales de reglamentación?

- A) Tienen forma rectangular, de color blanco con letras, símbolos y borde de color negro, y en la parte superior un círculo rojo.
- B) Se confeccionan en láminas cuadradas con esquinas redondeadas de fondo amarillo.
- C) En autopistas son grandes con fondo verde y letras blancas, mensaje claro y sencillo.
- D) Son de forma cuadrada, de color azul colocadas con el vértice hacia arriba.

32) Observe las siguientes señales de tránsito:



¿Cuáles números de los anteriores identifican dos señales de información?

- A) 1 y 2
- B) 1 y 4
- C) 2 y 3
- D) 3 y 4

33) ¿Cuál es un elemento de las vías urbanas en Costa Rica?

- A) El espaldón
- B) La cuneta
- C) El drenaje
- D) La acera

34) Lea el siguiente texto:

La red de carreteras del país carece de una funcionalidad eficiente. La principal dificultad es que, tanto en las vías nacionales como regionales, el trazo actual ha agotado su capacidad para procurar mejorarlas. Los problemas de conexión territorial y las condiciones de las rutas, conducen a que muchas acciones para mejorar estas, tengan un limitado efecto práctico en la mejora y transformación funcional de la red.

Adaptado de Plan Nacional de Transportes de Costa Rica 2011-2035. MOPT

De acuerdo con el texto anterior, una característica del sistema vial de Costa Rica consiste en que

- A) el tipo de relieve no permite ampliar la red vial a nivel nacional.
- B) la cercanía de las distintas regiones dificulta la construcción de nuevas rutas.
- C) la principal razón del mal funcionamiento de la red vial es la gran cantidad de rutas alternas.
- D) el diseño deficiente e inadecuado de las rutas y carreteras causa los embotellamientos.

35) Lea los siguientes aspectos:

1. Daños a la propiedad pública o privada.
2. Aumento de la productividad empresarial.
3. Discapacidades transitorias o permanentes de los accidentados.
4. Facilidades para la reinserción social de la persona accidentada.

¿Cuáles números de los anteriores identifican dos aspectos que tienen un impacto social y económico causado por los accidentes de tránsito en Costa Rica?

- A) 1 y 3
- B) 1 y 4
- C) 2 y 3
- D) 2 y 4

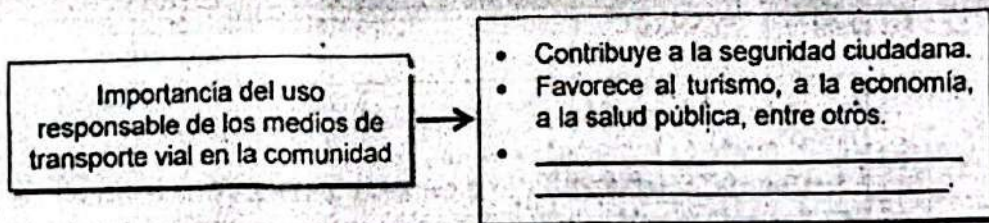
36) Lea las siguientes características:

- | |
|--|
| 1. Poseen rótulos electrónicos que indican la ruta que recorre la unidad. |
| 2. Utilizan un sistema integrado de cobro electrónico instalado en las unidades. |
| 3. Las puertas pueden mantenerse abiertas o cerradas, a criterio del conductor, durante el recorrido. |
| 4. Cuentan con una salida de emergencia de fácil acceso situada en la parte trasera o en el lado opuesto a las puertas de la unidad. |

¿Cuáles números identifican dos características del transporte público en la modalidad de autobús en Costa Rica?

- A) 1 y 2
- B) 1 y 4
- C) 2 y 3
- D) 3 y 4

37) Lea el siguiente esquema:



¿Cuál opción completa correctamente el esquema anterior?

- A) Permite el ahorro de combustibles
- B) + Fortalece el cobro de tarifas en los peajes +
- C) Contribuye a aumentar el efecto invernadero +
- D) Incrementa el costo social en la atención de las víctimas en hospitales +

38) Lea el siguiente texto:

Derivada de la actividad humana en la producción, distribución, transporte, consumo de bienes y servicios, la construcción y el uso de edificios e infraestructura. Comprenden una gama de peligros como lo son las distintas formas de contaminación de agua, aire y suelos, los incendios, las explosiones y los derrames de sustancias tóxicas.

Adaptado de Formación Ciudadana Terraba, MEP-ICER

El texto anterior hace referencia al concepto de

- A) amenaza natural.
- B) gestión de riesgo.
- C) gestión ambiental.
- D) amenaza antropogénica.

39) El concepto de mitigación se refiere

- A) a la aplicación de medidas para reducir el impacto negativo que provoca una alteración de origen natural o humana.
- B) al peligro latente representado por la posible ocurrencia de un fenómeno humano de origen natural, humano o tecnológico.
- C) al conjunto de acciones orientadas a evitar que los sucesos negativos se conviertan en accidentes.
- D) a una forma específica de manifestación de una amenaza o multiamenaza.

40) Lea la siguiente información:



¿Cuáles números identifican tres eventos antrópicos según su origen?

- A) 1, 2 y 4
- B) 1, 3 y 5
- C) 2, 3 y 6
- D) 4, 5 y 6

41) ¿Cuáles son dos ejemplos de eventos naturales de origen tectónico que ponen en peligro la vida de las personas, sus viviendas, sus bienes y el medioambiente?

- A) Los tornados y la deforestación.
- B) Los sismos y las erupciones volcánicas.
- C) El dengue y el recalentamiento terrestre.
- D) Las plagas y la contaminación de las aguas.

42) ¿Cuál evento natural se puede presentar en Costa Rica provocado por el choque de placas Cocos y Caribe?

- A) Contaminación del suelo
- B) Incendio forestal
- C) Terremoto
- D) Tormenta

43) Lea el siguiente texto:

En Costa Rica, más que resaltar que el tema de la prevención y atención de los desastres, pasa de estar tradicionalmente en el sector ambiental al social, debe enfatizarse en que es una estrategia de planificación del Estado, la cual pretende concentrar a todas aquellas instituciones con programas, proyectos y acciones dirigidas a establecer la vulnerabilidad de las distintas regiones geográficas

Adaptado de Decimotercer Informe sobre el Estado de la Nación

Según el texto anterior, la implementación de la gestión de riesgo en el país

- A) establece comités regionales y comunales para la gestión del riesgo que den prioridad a la Gran Área Metropolitana.
- B) conoce las condiciones de vulnerabilidad de la población para reducir el riesgo ante posibles desastres.
- C) concentra todos los recursos económicos del país en la atención de los eventos naturales.
- D) excluye a las municipalidades de alguna responsabilidad en la atención de los desastres.

44) Lea la siguiente información:

El sistema montañoso principal de Costa Rica está rodeado por extensas llanuras de origen predominantemente aluvial, en las cuales las lluvias son frecuentes gran parte del año. En ellas se encuentran gran cantidad de ríos que desembocan principalmente en el mar Caribe y recorren grandes distancias hasta su desembocadura.

Adaptado de <https://www.cna.go.cr/CEDO-CRID>

De acuerdo con las características del relieve del país descritas en la información anterior, ¿cuál evento natural se puede presentar en esas llanuras?

- A) Inundación
- B) Tornado
- C) Sequía
- D) Sismo

45) Lea la siguiente información:

En Costa Rica, los eventos por las lluvias han aumentado en San José y Desamparados, dos de los cantones con mayor cantidad de población en el país. La presencia de desechos sólidos en el sistema pluvial provoca colapsos por inundaciones en la ciudad capital, por ejemplo, en las áreas de influencia del río Ocloro y la quebrada Arias.

Adaptado de Gestión del riesgo y vulnerabilidad en Costa Rica

La información anterior hace referencia a un evento de tipo

- A) químico.
- B) biológico.
- C) geológico.
- D) antropogénico.

46) Lea la siguiente información:

1. Determinar las principales amenazas en la comunidad. /
2. Reducir las posibilidades de que suceda un terremoto. /
3. Realizar simulacros de los principales riesgos en la comunidad. /
4. Formar una directiva que solicite la cooperación sólo si es necesario.

¿Cuáles números de los anteriores identifican dos prioridades en la organización y planificación del Plan de Gestión de Riesgo en una comunidad?

- A) 1 y 2
- B) 1 y 3
- C) 2 y 4
- D) 3 y 4

47) Lea los siguientes objetivos:

1. Integrar los esfuerzos de las instituciones públicas y privadas para que participen en la mitigación de los desastres naturales y antropogénicos.
2. Minimizar las pérdidas materiales y humanas que ocasionan los eventos de origen natural y antropogénicos.
3. Permitir que las municipalidades organicen en forma independiente las actividades ante un desastre.
4. Impedir que la sociedad civil intervenga en los planes de gestión de riesgo.

¿Cuáles números de los anteriores identifican dos objetivos de la Ley de Atención de Emergencias y Prevención de Riesgos?

- A) 1 y 2
- B) 1 y 3
- C) 2 y 4
- D) 3 y 4

48) Lea el siguiente texto.

«Es la responsabilidad de las instituciones del Estado de realizar esfuerzos comunes para proteger la vida, la integridad física y el patrimonio de todos los costarricenses, considerando prioritaria la atención de las necesidades de los más vulnerables bajo los preceptos de equidad y razón».

Ley Nacional de Atención de Emergencias y Prevención de Riesgos. Art. 3.

De acuerdo con la Ley Nacional de Atención de Emergencias y Prevención de Riesgos, el texto anterior hace referencia al principio de

- A) solidaridad.
- B) coordinación.
- C) administración.
- D) proporcionalidad.

49) De acuerdo con la Ley Nacional de Atención de Emergencias y Prevención de Riesgos, al estado de crisis provocado por el desastre y basado en la magnitud de los daños y las pérdidas se le denomina

- A) amenaza.
- B) prevención.
- C) preparación.
- D) emergencia.

50) En Costa Rica se encuentran poblaciones que por sus características topográficas y de ubicación presentan mayor grado de vulnerabilidad que otras. Dos tipos de amenazas de origen geológico que pueden afectar a estas poblaciones son

- A) las erupciones volcánicas y los hundimientos.
- B) los desbordamientos y el fenómeno del niño.
- C) los huracanes y las tormentas eléctricas.
- D) las inundaciones y los incendios.

- 51) En Costa Rica hay comunidades en condición de vulnerabilidad en las que intervienen situaciones políticas, de marginalidad social y económica, las cuales provocan que las personas habiten en terrenos considerados no aptos para vivir o construir. ¿Qué tipo de amenaza natural puede poner en riesgo a las personas que habitan estos terrenos?
- A) Infertilidad de los suelos
 - B) Deslizamientos
 - C) Deforestación
 - D) Marea roja

- 52) Lea las siguientes acciones:

1. Evaluar los daños ocasionados.
2. Gestionar los recursos necesarios para la recuperación de la institución educativa.
3. Reconocer las amenazas y los factores de vulnerabilidad a la que están expuestos.
4. Identificar los recursos internos y externos de la institución educativa que pueden ser utilizados en caso de una situación de emergencia.

¿Cuáles números de los anteriores identifican dos acciones que contribuyen a la prevención en la gestión del riesgo en la institución educativa?

- A) 1 y 2
- B) 1 y 3
- C) 2 y 4
- D) 3 y 4

53) Lea las siguientes acciones:

1. Atender los consejos de los organismos responsables durante el evento.

2. Evaluar los resultados de las acciones de mitigación realizadas.

3. Establecer los posibles puntos de ingreso de los cuerpos de socorro.

4. Actualizar el plan de gestión de riesgos.

¿Cuáles números de los anteriores identifican dos acciones que contribuyen con la prevención en la gestión del riesgo en la institución educativa?

- A) 1 y 2
- B) 1 y 4
- C) 2 y 3
- D) 3 y 4

54) La función de coordinar la ejecución de las actividades de prevención, mitigación, preparación, alerta y atención de emergencias o desastres en los centros educativos de Costa Rica es competencia

- A) del Patronato Escolar.
- B) de la junta administrativa.
- C) del director del centro educativo.
- D) del Comité Institucional y Comunal para la Gestión del Riesgo.

55) El Comité Institucional y Comunal de Gestión del Riesgo en los centros educativos de Costa Rica está integrado por

- A) los agentes de seguridad privada de la comunidad y el personal docente de la institución.
- B) los funcionarios de la Fuerza Pública y el director regional de Educación.
- C) los padres de familia y los miembros de los distintos centros religiosos.
- D) el director, personal administrativo, padres de familia y alumnos.