

8.40



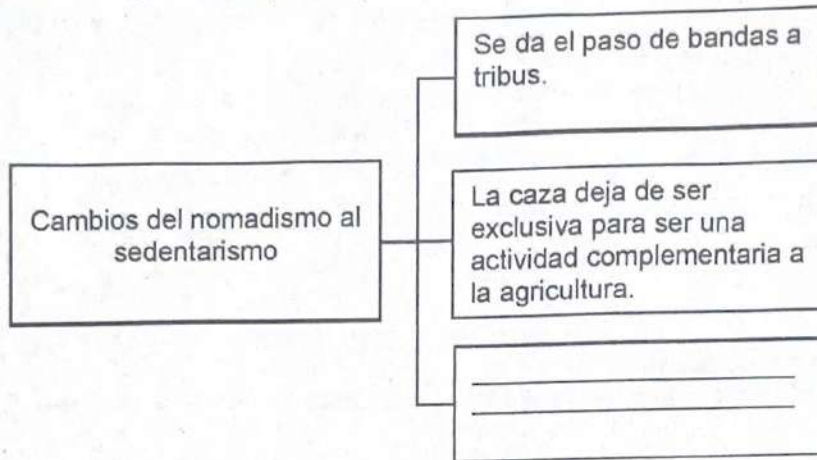
SELECCIÓN ÚNICA

55 ÍTEMS

- 1) La hominización es el proceso de evolución de los seres humanos, que les permitió adaptarse al ambiente para sobrevivir, en este sentido, es correcto afirmar que
- A) los homo habilis permanecen en el planeta en la actualidad.
  - B) el homo sapiens sapiens es la especie más evolucionada.
  - C) los homínidos en su totalidad desaparecieron de la Tierra.
- 2) El hombre de Neanderthal fue una especie que, gracias a sus capacidades, amarró a un palo de madera las puntas que servían de herramienta con tiras de piel, tendones de animales y fibras vegetales, lo cual evidenció un desarrollo en su sobrevivencia, ya que esto le permitió
- A) utilizar los animales rastreros para cazar otras especies.
  - B) dedicar su tiempo exclusivamente a la agricultura.
  - C) dar un mejor manejo a las armas para cazar.
- 3) Según estudios acerca del proceso de evolución del ser humano, el *Homo erectus* se caracterizó por utilizar por primera vez el fuego, esto fue importante para su vida y evolución porque le permitió
- A) dejar de vivir en cavernas para habitar en la costa.
  - B) alejar a los animales para mantenerse a salvo.
  - C) incendiar los bosques en su totalidad.



4) Considere el siguiente esquema:



¿Cuál opción completa correctamente el esquema anterior?

- A) Se pasa de las condiciones igualitarias a la jerarquización social.
- B) Desaparecen las características espirituales de los pueblos.
- C) Disminuye la domesticación de animales y plantas.

5) Lea la siguiente información:

- |  |   |
|--|---|
| 1. Ratificó el desarrollo del nomadismo.                     | 2. Desmejoró la calidad de vida y alimentación de las personas. |
| 3. Posibilitó la producción de alimentos y tener excedentes. | 4. Permitió la aparición de nuevos asentamientos humanos.       |

¿Cuáles números de los anteriores identifican dos cambios que trajo consigo el surgimiento de la agricultura?

- A) 1 y 3
- B) 2 y 4
- C) 3 y 4



- 6) La civilización egipcia es considerada una de las más importantes en la historia, su desarrollo se dio alrededor del río Nilo, lo cual facilitó el crecimiento de su población, ya que
- A) las crecidas de este dejaron miles de muertes a su alrededor.
  - B) sus aguas fueron usadas para el riego de los cultivos.
  - C) sirvió de límite natural con Mesopotamia.

- 7) Lea el siguiente esquema:

Condiciones espaciales que favorecieron el surgimiento de la civilización romana

Los montes Apeninos recorren la península Itálica.



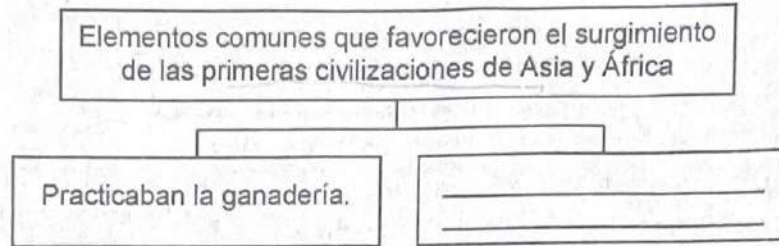
\_\_\_\_\_

¿Con cuál opción se completa correctamente el esquema anterior?

- A) Existencia de amplias llanuras costeras de gran fertilidad.
- B) Gran parte de su territorio se localizaba en una zona desértica.
- C) Dificil acceso debido a las altas cumbres de la cordillera de los Alpes.



8) Lea el siguiente esquema:



¿Cuál opción completa correctamente el esquema anterior?

- A) Poseían un sistema de acueductos que les abastecía permanentemente de agua potable.
- B) Se instalaron en un espacio geográfico estable que les permitió desarrollar los cimientos de su cultura.
- C) Desarrollaron un régimen político democrático donde todos los ciudadanos participaban del gobierno.

9) Lea los siguientes aspectos:

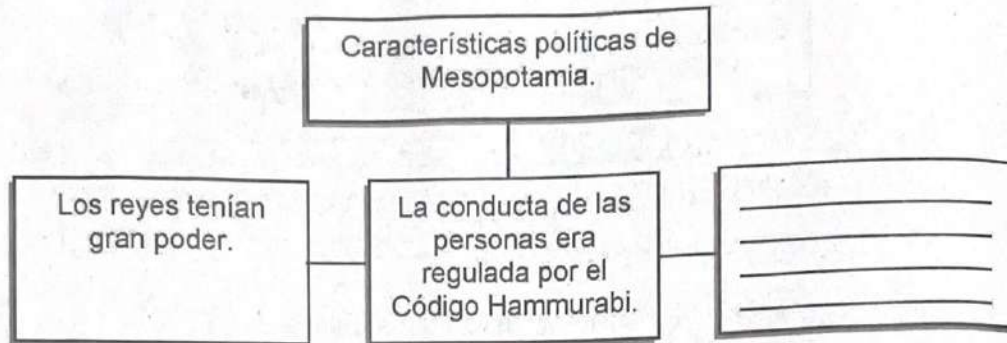
- Los egipcios creían en varios dioses.
- Consideraban al río Nilo como una deidad.
- Encontraban en la naturaleza divinidades y algunas poseían características de animales.

De acuerdo con los aspectos anteriores se puede afirmar que la civilización egipcia practicaba el

- A) monoteísmo.
- B) politeísmo.
- C) ateísmo.



10) Lea el siguiente esquema:



¿Cuál opción completa correctamente el esquema anterior?

- A) Se implementó la actividad comercial para mejorar los ingresos económicos.
- B) Los gobernantes impulsaron la idea de instaurar la democracia.
- C) El rey era el primer sacerdote y dirigía el ejército.

11) La economía en las civilizaciones antiguas de Mesopotamia y de Egipto se caracterizó porque se basó, principalmente, en la actividad denominada

- A) agricultura.
- B) artesanía.
- C) minería.



12) Considere la siguiente información:

Escritura cuneiforme



Fuente:  
<https://es.123rf.com/>

Escritura jeroglífica



Fuente: <https://www.shutterstock.com>

La información anterior hace referencia a la escritura de las civilizaciones de Mesopotamia y de Egipto, respectivamente; la importancia de ello radica en que

- A) permitió utilizar la comunicación escrita para diversos fines.
  - B) creó una sola forma de comunicación en el mundo.
  - C) eliminó la comunicación verbal en sus pueblos.
- 13) En la actualidad se mide el tiempo en horas de sesenta minutos. Además, se sabe que en el campo de las Matemáticas se estableció la medida del círculo en 360°; esto por un legado transmitido por los sumerios denominado sistema
- A) sexagesimal.
  - B) decimal.
  - C) natural.
- 14) Una característica territorial común de las antiguas civilizaciones de Roma y Grecia consistió en que ambas
- A) estaban ubicadas al norte de Europa.
  - B) limitaron con el mar Mediterráneo.
  - C) fueron irrigadas por el río Tigris.



- 15) Una característica social que tuvieron en común las antiguas civilizaciones de Roma y Grecia corresponde a que en ambas los
- A) esclavos, en su mayoría, eran prisioneros de guerra.
  - B) gobernantes fueron elegidos por el pueblo.
  - C) ciudadanos carecían de derechos.
- 16) En la antigua Grecia la organización política se caracterizó por la existencia de
- A) gobiernos teocráticos al mando de los jefes religiosos.
  - B) ciudades Estado autónomas e independientes de extensión variable.
  - C) pequeñas aldeas gobernadas por un plebeyo con facultades absolutas.
- 17) La democracia ateniense, como legado de la antigua Grecia, posee un valor importante para la humanidad, ya que
- A) establece la idea de igualdad política entre los que se consideran como ciudadanos.
  - B) les permite a los líderes políticos gobernar de manera ilimitada.
  - C) impulsa el poder de los gobiernos teocráticos.

18) Considere el siguiente texto:

«El Derecho Romano es el nombre que le damos al conjunto de normas que rigieron la vida de la Antigua Roma durante los catorce siglos que el Imperio se mantuvo en pie. En la actualidad, entendemos por Derecho Romano el ordenamiento jurídico que reguló las actividades de los ciudadanos del Imperio, desde su fundación—en el año 753 a. C.—hasta su caída en el siglo V d.C., fue un cuerpo legal vivo que se adaptó para cubrir las necesidades sociales de cada momento histórico».

Fuente: <https://mexico.unir.net/derecho/noticias/derecho-romano/>

El texto anterior resalta la importancia que tiene el Derecho Romano para las sociedades en distintos momentos de la historia porque

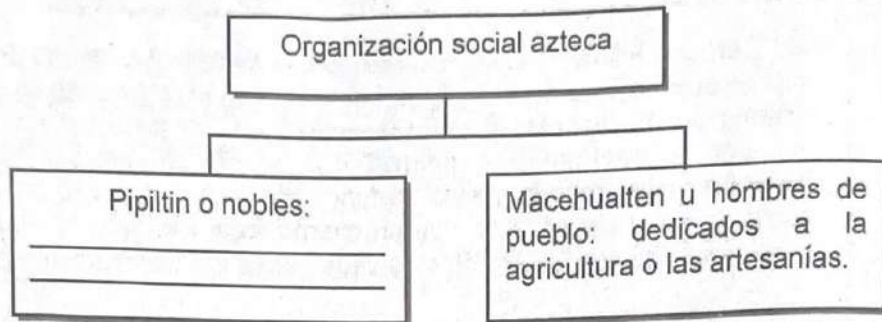
- A) incrementa la desorganización política.
- B) estimula el orden en la sociedad.
- C) elimina el control territorial.

19) El derecho es el más valioso legado que los romanos le han dejado a la sociedad, porque

- A) los gobernantes pueden instituir la esclavitud como un bien para la sociedad.
- B) representa uno de los mayores logros de las antiguas sociedades asiáticas.
- C) constituye la base de la mayoría de las normas jurídicas en la actualidad.



20) Lea el siguiente esquema:



¿Cuál opción completa correctamente el esquema anterior?

- A) obtenidos a través de las guerras.
- B) ocupaban los principales cargos del gobierno.
- C) clase social más baja y explotada del imperio.

21) Lea el siguiente esquema:

Organización económica de los incas

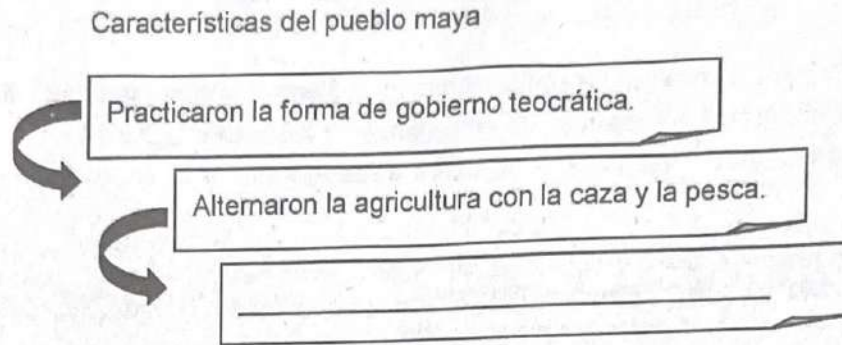
- Lograron gran desarrollo agrícola.
- Utilizaron métodos avanzados de irrigación.
- Domesticaron animales como llamas y alpacas.
- \_\_\_\_\_
- \_\_\_\_\_

¿Cuál opción completa correctamente el esquema anterior?

- A) La producción se dividía entre el soberano y los habitantes.
- B) Los curacas eran los principales agricultores.
- C) Carecieron de actividad comercial.



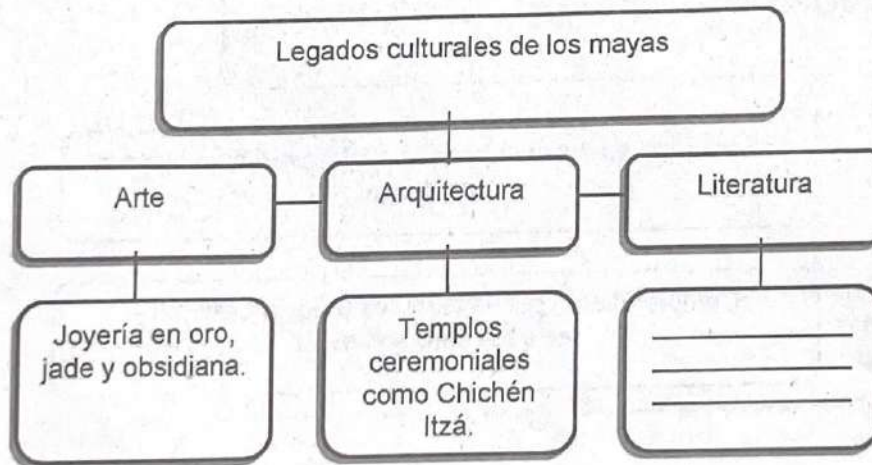
22) Lea el siguiente esquema:



¿Con cuál opción se completa correctamente el esquema anterior?

- A) El ayllu fue su unidad de producción agrícola.
- B) Dividieron el territorio en ciudades Estado.
- C) Domesticaron el ganado vacuno.

23) Considere el siguiente esquema:

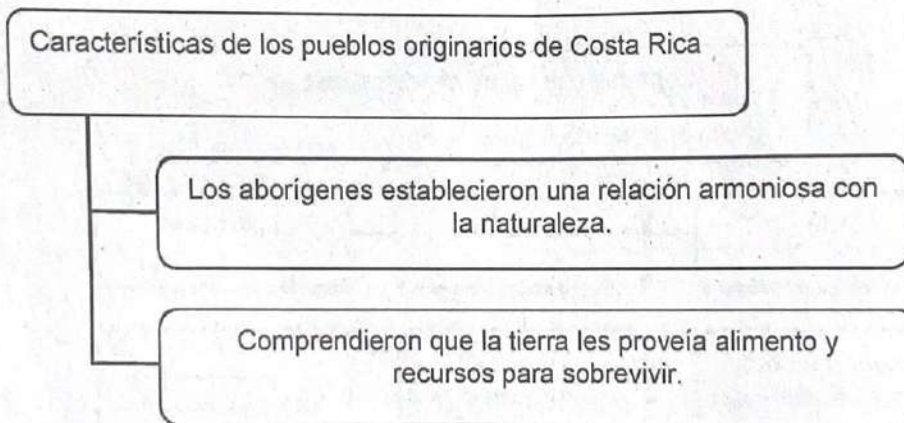


¿Cuál opción completa correctamente el esquema anterior?

- A) Utilización de baños de vapor.
- B) Fabricación de chinampas.
- C) Obras como el Popol Vuh.



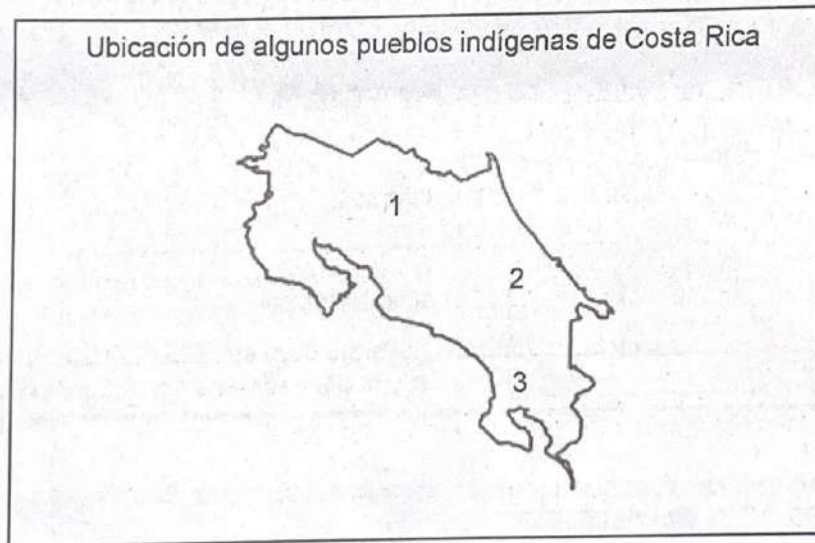
- 24) Las terrazas agrícolas creadas por el pueblo inca fueron vitales para sus cultivos, además de ello, constituyen un legado importante porque
- A) reflejan la creación de edificaciones de protección y defensa territorial.
  - B) demuestran el desarrollo de un sistema contable en la agricultura.
  - C) evidencian el avance en el uso de técnicas de cultivo.
- 25) Los aztecas construyeron templos, plazas, puentes y acueductos, entre otras obras, lo cual posee un gran valor porque le aportó a la sociedad
- A) la aplicación de diferentes técnicas arquitectónicas.
  - B) la implementación de conocimientos astronómicos.
  - C) el interés por las esculturas de mármol de Carrara.
- 26) Lea la siguiente información:



La información anterior evidencia la relación que existió entre los habitantes originarios de nuestro país y la naturaleza, lo cual explica que

- A) demostraron interés por proteger los recursos.
- B) generaron gran cantidad de contaminación.
- C) utilizaron recursos de manera desmedida.

- 27) Como consecuencia del desarrollo agrícola en los pueblos originarios de Costa Rica se dio el crecimiento de la población autóctona, lo que trajo consigo el paso de sociedades igualitarias a unas más complejas y desiguales, que se caracterizaron por
- A) el proceso de conquista.
  - B) la diversificación agrícola.
  - C) el surgimiento de una jerarquía social.
- 28) Con respecto a la etapa de cazadores-recolectores, los primeros pobladores de nuestro país presentaron rasgos característicos como
- A) el traslado en pequeños grupos nómadas.
  - B) el incremento del tamaño de sus aldeas.
  - C) la creación de grandes centros urbanos.
- 29) Considere el siguiente croquis:



Fuente: Adaptado de Estudios Sociales 7. Publicaciones Porras y Gamboa, p.105

¿Cuál número del croquis anterior identifica la ubicación actual del pueblo originario de Costa Rica denominado Guaymí?

- A) 1
- B) 2
- C) 3



30) Lea la siguiente información:

1. Mejora en la prestación de servicios públicos.	3. Fortalecimiento de la identidad indígena.
2. Deficiente acceso a los servicios de salud.	4. Construcción de grandes complejos habitacionales.

¿Cuáles números de los anteriores identifican dos desafíos que enfrentan, en la actualidad, los pueblos indígenas de Costa Rica?

- A) 1 y 2
- B) 1 y 3
- C) 2 y 4

31) Lea la siguiente información:

Las consecuencias de la huella ecológica

- Agotamiento de los recursos naturales
- Deforestación
- Desequilibrio ecológico
- Sobreexplotación de los recursos
- Pérdida de biodiversidad
- Erosión del suelo
- Aumento del ritmo del cambio climático

Adaptado de <https://elpoligrafo.com.ar/2023/02/10/huella-ecologica-que-es-y-cuales-son-sus-consecuencias/>

La información anterior contiene las principales consecuencias de la huella ecológica; tener conocimiento de ello es importante porque

- A) promueve la disminución de las energías renovables con el fin de reducir su efecto negativo en el planeta.
- B) permite hacer conciencia del impacto ambiental que generan las actividades humanas.
- C) impulsa una mayor producción y uso de energías a base de combustibles fósiles.



32) Lea el siguiente texto:

La huella ecológica es la medida del impacto de las actividades humanas sobre la naturaleza, representada por la superficie necesaria para producir los recursos y absorber el impacto de dicha actividad. Esta superficie suma la tierra productiva (o biocapacidad) necesaria para los cultivos, el pastoreo y el suelo urbanizado, zonas pesqueras y bosques.

Adaptado de: [www.wwf.es](http://www.wwf.es)

De acuerdo con el texto anterior, se puede afirmar que conocer la huella ecológica es importante porque

- A) menosprecia la importancia de los recursos naturales.
- B) minimiza la conciencia sobre el manejo de los recursos naturales.
- C) promueve la toma de conciencia sobre el uso apropiado de los recursos del planeta.

33) Lea el siguiente esquema:



¿Cuál opción completa correctamente el esquema anterior?

- A) Disminución de los niveles de CO<sub>2</sub>
- B) Uso de energías renovables
- C) Crecimiento demográfico



34) ¿Cuál es uno de los factores que propicia la huella ecológica de los países en el mundo?

- A) La cantidad de terreno destinado a la actividad agrícola y ganadera.
- B) Los espacios destinados para la conservación de bosques.
- C) El impacto de la actividad lunar sobre las masas oceánicas.

35) Lea la siguiente información:

Huella ecológica de algunos países en el año 2015

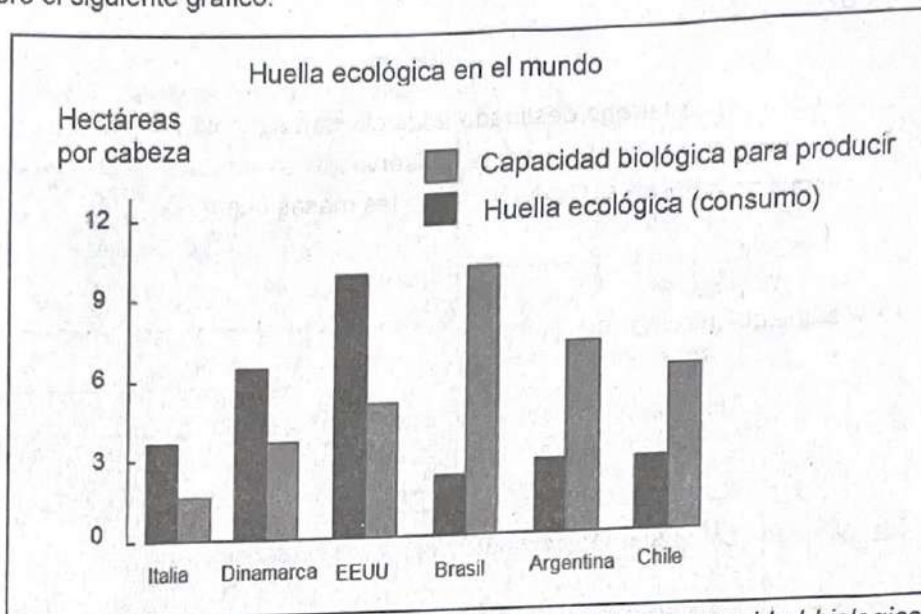
Países petroleros	Huella ecológica
Emiratos Árabes Unidos	9,5
Kuwait	8,9
Países desarrollados	
Estados Unidos de América	8,2
Australia	9,3
Japón	5,0
Alemania	5,3
Países subdesarrollados	
Bolivia	3,0
Pakistán	0,8
Costa Rica	2,8

Fuente: Estudios Sociales 7°, Didáctica Multimedia

De acuerdo con la información anterior, se puede afirmar que la huella ecológica

- A) muestra un comportamiento equitativo en todos los países.
- B) está ausente en los países subdesarrollados.
- C) es mayor en las naciones desarrolladas.

36) Considere el siguiente gráfico:



Fuente: <https://www.researchgate.net/Huella-ecologica-y-capacidad-biologica-de-paises-seleccionados>

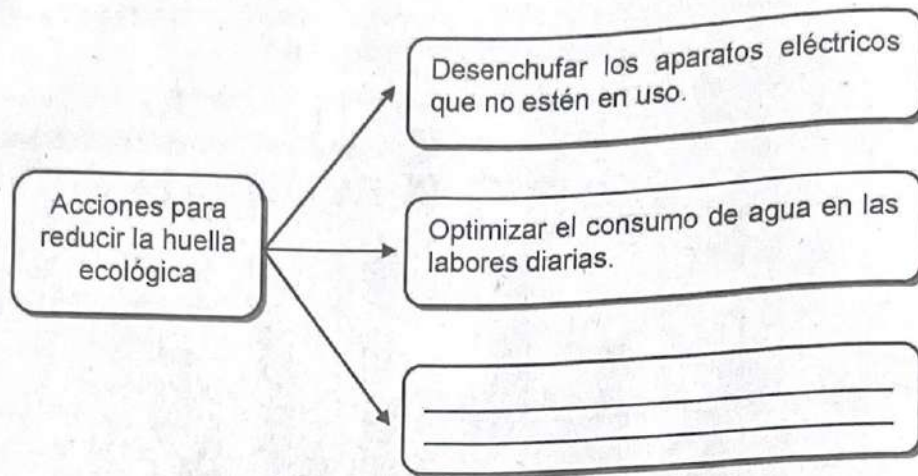
De acuerdo con el gráfico anterior, es correcto afirmar que

- A) el nivel de consumo de Argentina es mayor a su capacidad biológica para producir.
- B) Brasil tiene una capacidad biológica para producir, la cual es superior a su huella ecológica.
- C) Chile y Dinamarca presentan una huella ecológica similar.





37) Lea el siguiente esquema:



¿Cuál opción completa correctamente el esquema anterior?

- A) Dar un continuo y correcto mantenimiento a los vehículos.
- B) Aumentar el consumo de artículos de un solo uso.
- C) Reducir el uso de bombillos de bajo consumo.

38) Considere la siguiente información:

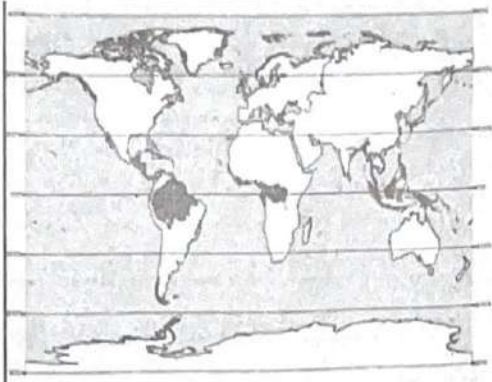
1. Impulsar el consumo de plásticos de un solo uso.
2. Incrementar el consumo de carne de res.
3. Reducir el uso de aire acondicionado.
4. Secar la ropa de manera natural.

¿Cuáles números de los anteriores identifican dos alternativas para reducir la huella ecológica del ser humano en el planeta?

- A) 1 y 2
- B) 2 y 3
- C) 3 y 4



39) Lea la siguiente información:

	<ul style="list-style-type: none"><li>• Se localiza entre los 0° y los 30° en los hemisferios Norte y Sur.</li><li>• Presenta lluvias abundantes y altas temperaturas.</li></ul>
---	--

¿A cuál ecosistema se refiere la información anterior?

- A) Templado
- B) Tropical
- C) Tundra

40) Considere el siguiente texto:

«Aunque son considerados los lugares más inhóspitos y rudos de la Tierra, albergan vida, porque hay plantas y animales increíbles que logran adaptarse a la escasez de agua y temperaturas inclementes en estos paisajes desolados.

Por este motivo, son objeto de observación y estudio durante mucho tiempo.

Son el mejor ejemplo de persistencia a lo largo de los miles de años de cambios en la Tierra, porque demuestran cómo es posible adaptarse a las peores condiciones, con tal de seguir respirando vida».

Fuente: <https://energiatoday.com/ecosistemas/>

¿Cuál tipo de ecosistema terrestre se describe en el texto anterior?

- A) Desierto
- B) Sabana
- C) Taiga



41) Lea el siguiente esquema:



¿Cuál es el nombre del ecosistema de Costa Rica que completa correctamente el esquema anterior?

- A) húmedo
- B) de montaña
- C) muy húmedo

42) Considere la siguiente información:

Ecosistema de tipo _____
Se presenta en la región de Orinoco y el noreste de Brasil en América.
Se extiende en la parte central de África, abundan los mamíferos depredadores, ya que los pastizales les permiten tener una visión amplia. En consecuencia, hay pumas, chitas, leones, guepardos, hipopótamos y ciervos, entre otros.

¿Cuál opción completa correctamente la información anterior?

- A) templado
- B) sabana
- C) tundra



43) Lea la siguiente información:

1. Aumento de las concesiones mineras.
2. Disminución de represas hidroeléctricas.
3. Fortalecimiento de las leyes de protección ambiental.
4. Sustitución de los bosques por la agricultura y la ganadería.

¿Cuáles números de los anteriores identifican dos motivos por los cuales los bosques tropicales han disminuido?

- A) 1 y 3  
B) 1 y 4  
C) 2 y 4
- 44) Los bosques tropicales son muy importantes, ellos albergan muchas especies de flora y fauna que mantienen en equilibrio los ecosistemas; lamentablemente, las regiones boscosas están en peligro debido a
- A) que se les ha considerado patrimonio natural.  
B) la protección de reservas forestales.  
C) la tala indiscriminada de árboles.
- 45) Como parte de las estrategias para el manejo sostenible de los recursos naturales, en Costa Rica se ha impulsado, a través de los años, el desarrollo sostenible, iniciativa de gran valor porque
- A) disminuye la capacidad para generar materias primas.  
B) contribuye con el balance y la preservación de las especies.  
C) promueve el uso desmedido de fertilizantes en grandes terrenos.
- 46) Una de las estrategias a nivel nacional en torno al manejo sostenible de los recursos naturales es la práctica del ecoturismo, el cual
- A) procura disminuir el impacto del ser humano en el ambiente y generar ingresos.  
B) mantiene económicamente el sistema de protección de la flora y fauna del país.  
C) reduce la presión sobre los recursos naturales al impulsar, exclusivamente, el turismo nacional.



47) Una de las estrategias implementadas en Costa Rica, en cuanto al manejo sostenible de los recursos naturales, es la declaración de ciertas regiones como reservas biológicas, las cuales son importantes porque

- A) son zonas inalteradas que sirven para la investigación y educación.
- B) permiten la extinción controlada de especies vegetales y animales.
- C) en ellas se han encontrado los lugares ideales para deforestar.

48) Observe el siguiente gráfico:

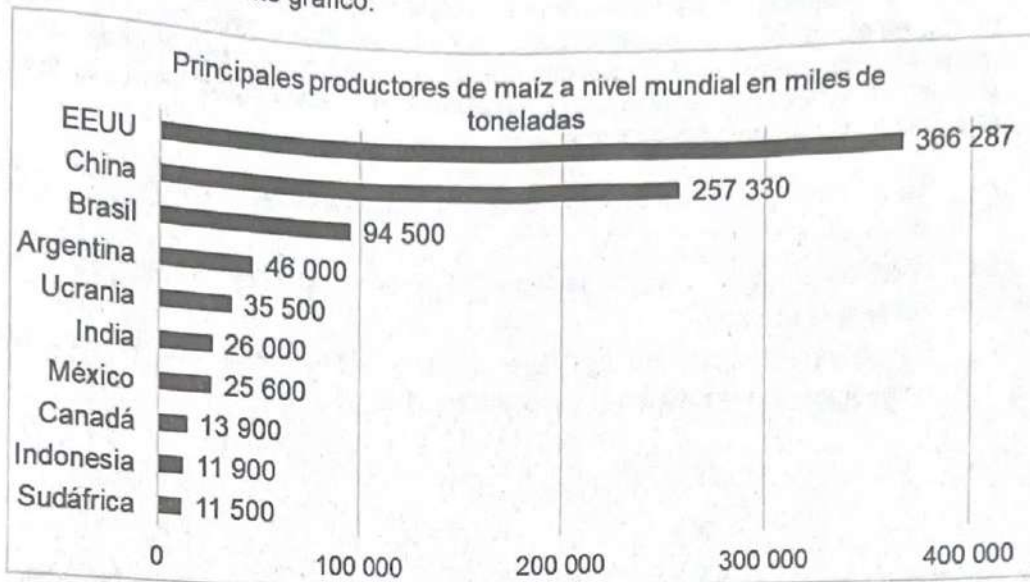


De acuerdo con el gráfico anterior, se puede afirmar que

- A) República Dominicana supera a Nicaragua en la producción de leche en la región.
- B) Colombia ocupa el primer lugar en producción de leche en Latinoamérica.
- C) Ecuador es uno de los mayores productores de leche de América Latina.



49) Considere el siguiente gráfico:



Fuente: <https://www.mccormick.it/es/todos-los-datos-actualizados-sobre-la-produccion-de-maiz-en-el-mundo>

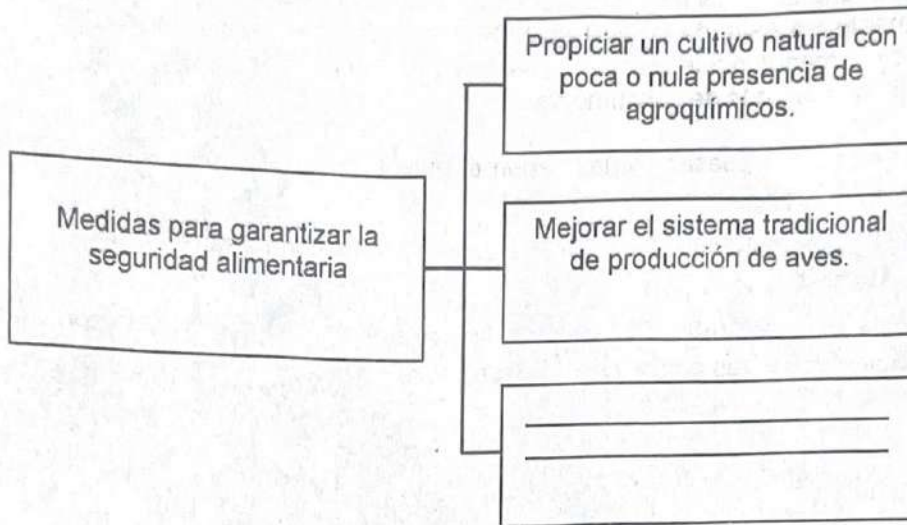
De acuerdo con el gráfico anterior, se puede afirmar que

- A) India es el segundo país del mundo con mayor producción de maíz.
  - B) en el continente americano, Brasil es el mayor productor de maíz.
  - C) China es uno de los mayores productores de maíz del mundo.
- 50) En el mundo, el acceso a alimentos saludables y nutritivos es diferenciado dependiendo de la región, esto debido a que en algunas naciones el nivel de consumo supera la capacidad de producción y también por
- A) el interés de los gobiernos de aportar todas las calorías necesarias a los habitantes.
  - B) la dieta saludable que es común en todas las naciones del mundo.
  - C) el poder adquisitivo de los habitantes de cada país o región.



- 51) Según la Organización de las Naciones Unidas para la Alimentación y la Agricultura (FAO), en el año 2016 los mayores porcentajes de personas con hambre se mostraban, principalmente, en Asia (64 %) y África (29 %), mientras que en países desarrollados se presentaba la menor incidencia (2 %). De acuerdo con estos datos, se puede decir, con respecto a los patrones de consumo, que
- A) las naciones subdesarrolladas tienen el mayor índice de población con hambre a nivel mundial.
  - B) la región africana supera la cantidad de personas con hambre en relación con el continente asiático.
  - C) los países desarrollados poseen un alto índice de personas con hambre comparado con las naciones subdesarrolladas.
- 52) Una de las problemáticas que enfrenta la producción alimentaria es la desertificación, que consiste en la
- A) reducción de la capacidad del suelo para producir vegetación, por lo que se convierte en un paisaje árido o semiárido.
  - B) regeneración de los suelos que se traduce en aumento de zonas boscosas.
  - C) disminución de manglares para dar lugar a espacios agrícolas.
- 53) Por diversas causas, en la actualidad se da un uso inadecuado de los suelos, lo cual provoca una serie de repercusiones como
- A) la reducción de zonas agrícolas por el crecimiento poblacional, por lo que disminuye la capacidad de producción de alimentos.
  - B) el mejoramiento en la fertilidad de los suelos, con lo que se incrementa la producción agrícola.
  - C) la erradicación de las hambrunas al mejorar, paulatinamente, las técnicas de cultivo.

54) Considere el siguiente esquema:



¿Cuál opción completa correctamente el esquema anterior?

- A) Impulsar el aumento en el costo de los alimentos.
- B) Cuidar los suelos para mantener su fertilidad.
- C) Estimular la erosión de las zonas agrícolas.

55) La implementación de la agricultura orgánica en varios espacios agrícolas del mundo es una alternativa para garantizar la seguridad alimentaria de las personas. Uno de sus beneficios consiste en que

- A) ayuda a preservar la calidad de los alimentos.
- B) aumenta el costo económico de producción.
- C) disminuye la fertilidad de los suelos.